

**Сборник тренировочных материалов для подготовки
к государственному выпускному экзамену
по ИНФОРМАТИКЕ и ИКТ
для обучающихся по образовательным программам
СРЕДНЕГО общего образования**

ПОЯСНИТЕЛЬНАЯ ЗАПИСКА

Тренировочные материалы предназначены для подготовки к государственному выпускному экзамену по информатике и ИКТ.

Тренировочные материалы состоят из четырёх тематических разделов, соответствующих основным содержательным линиям школьного курса информатики и ИКТ:

- раздел 1 – информация и её кодирование;
- раздел 2 – системы счисления, моделирование и компьютерный эксперимент, основы логики;
- раздел 3 – архитектура компьютеров и компьютерных сетей, обработка числовой информации, базы данных, поиск информации в сети;
- раздел 4 – алгоритмы и программирование.

Раздел 1 содержит 30 заданий для экзамена в письменной форме, из них 12 предполагают выбор одного правильного ответа из четырёх предложенных, а 18 – краткий ответ в виде числа. Верное выполнение каждого из заданий раздела оценивается в 1 балл. На устном экзамене тематике раздела соответствуют один или два вопроса билетов.

Раздел 2 содержит 36 заданий для экзамена в письменной форме, из них 18 предполагают выбор одного правильного ответа из четырёх предложенных, а 18 – краткий ответ в виде числа. Верное выполнение каждого из заданий раздела оценивается в 1 балл. На устном экзамене тематике раздела соответствуют четыре или пять вопросов билетов.

Раздел 3 содержит 24 задания, из них 18 предполагают выбор одного правильного ответа из четырёх предложенных, а 6 – краткий ответ в виде числа. Верное выполнение каждого из заданий раздела оценивается в 1 балл. На устном экзамене тематике раздела соответствуют 13 или 8 вопросов билетов, из которых три или два – практические задания на вычисления в электронных таблицах.

Раздел 4 содержит 30 заданий, из них 12 предполагают выбор одного правильного ответа из четырёх предложенных, 12 – краткий ответ в виде числа и 6 заданий требуют развёрнутого ответа. За верное выполнение каждого из заданий 1–24 выставляется по 1 баллу. Ответ на задания 25–30 оценивается максимально в 2 балла. На устном экзамене тематике раздела соответствуют 12 или 15 вопросов билетов, из которых 9 или 13 – практические задания на составление алгоритмов или программ.

Всего в сборнике приводится 30 вопросов для экзамена в устной форме (списки вопросов приводятся в двух формулировках – для экзаменов базового и профильного уровней) и 80 заданий для экзамена в письменной форме.

РАЗДЕЛ 1

Информация и её кодирование

Вопросы для экзамена в устной форме

Базовый уровень экзамена

1. Двоичные коды с фиксированной длиной кодового слова (разрядностью). Кодовая таблица. Декодирование.

Профильный уровень экзамена

1. Двоичные коды с фиксированной длиной кодового слова (разрядностью). Кодовая таблица. Неравномерное кодирование. Возможность однозначного декодирования. Кодирование с исправлением ошибок.
2. Дискретное (цифровое) представление аналоговых, в частности графических и звуковых, данных. Растровая графика. Дискретизация цвета, цветовое разрешение, модели RGB и CMYK. Векторная графика.

Задания для экзамена в письменной форме

Ответом к заданиям 1–12 является одна цифра или число. Ответ к заданиям 1–12 запишите в отведённом месте работы.

1

Производится одноканальная (моно) цифровая звукозапись. Значение сигнала фиксируется 16 000 раз в секунду, для записи каждого значения используется 16 бит. Запись длится 10 минут, её результаты записываются в файл, сжатие данных не производится. Какая из приведённых ниже величин наиболее близка к размеру полученного файла?

- 1) 9 Мбайт
- 2) 18 Мбайт
- 3) 35 Мбайт
- 4) 70 Мбайт

Ответ:

2

На студии при двухканальной (стерео) звукозаписи с частотой дискретизации 64 кГц за 1 минуту был записан звуковой файл. Сжатие данных не производилось. Известно, что размер файла оказался не менее 28 Мбайт и не более 32 Мбайт. С каким разрешением велась запись?

- 1) 8 бит 2) 16 бит 3) 32 бит 4) 64 бит

Ответ:

3

Производится одноканальная (моно) цифровая звукозапись. Значение сигнала фиксируется 48 000 раз в секунду, для записи каждого значения используется 32 бит. Запись длится 6 минут, её результаты записываются в файл, сжатие данных не производится. Какая из приведённых ниже величин наиболее близка к размеру полученного файла?

- 1) 7 Мбайт 2) 15 Мбайт 3) 32 Мбайт 4) 66 Мбайт

Ответ:

4

Производится двухканальная (стерео) цифровая звукозапись. Значение сигнала фиксируется 16 000 раз в секунду, для записи каждого значения используется 16 бит. Запись длится 15 минут, её результаты записываются в файл, сжатие данных не производится. Какая из приведённых ниже величин наиболее близка к размеру полученного файла?

- 1) 14 Мбайт 2) 28 Мбайт 3) 55 Мбайт 4) 439 Мбайт

Ответ:

5

Производится двухканальная (стерео) цифровая звукозапись. Значение сигнала фиксируется 48 000 раз в секунду, для записи каждого значения используется 16 бит. Запись длится 5 минут, её результаты записываются в файл, сжатие данных не производится. Какая из приведённых ниже величин наиболее близка к размеру полученного файла?

- 1) 14 Мбайт 2) 28 Мбайт 3) 55 Мбайт 4) 110 Мбайт

Ответ:

6 Производится двухканальная (стерео) цифровая звукозапись. Значение сигнала фиксируется 48 000 раз в секунду, для записи каждого значения используется 16 бит. Запись длится 10 минут, её результаты записываются в файл, сжатие данных не производится. Какая из приведённых ниже величин наиболее близка к размеру полученного файла?

- 1) 14 Мбайт 2) 28 Мбайт 3) 55 Мбайт 4) 110 Мбайт

Ответ:

7 Для кодирования некоторой последовательности, состоящей из букв А, Б, В, Г и Д, используется неравномерный двоичный код, позволяющий однозначно декодировать полученную двоичную последовательность. Вот этот код: А – 1; Б – 011; В – 0101; Г – 0100; Д – 001. Требуется сократить для одной из букв длину кодового слова так, чтобы код по-прежнему можно было декодировать однозначно. Коды остальных букв меняться не должны. Каким из указанных способов это можно сделать?

- 1) для буквы Д – 01
2) это невозможно
3) для буквы Д – 00
4) для буквы Б – 01

Ответ:

8 Для кодирования некоторой последовательности, состоящей из букв А, Б, В, Г и Д, используется неравномерный двоичный код, позволяющий однозначно декодировать полученную двоичную последовательность. Вот этот код: А – 00; Б – 01; В – 100; Г – 101; Д – 111. Требуется сократить для одной из букв длину кодового слова так, чтобы код по-прежнему можно было декодировать однозначно. Коды остальных букв меняться не должны. Каким из указанных способов это можно сделать?

- 1) для буквы Д – 11
2) для буквы В – 10
3) это невозможно
4) для буквы Г – 10

Ответ:

9

Для передачи сообщений, содержащих только буквы А, Б, В и Г, используется равномерный код. Кодовая последовательность для АБВГ выглядит так: 110001011010.

Требуется, убирая символы на правом конце некоторых кодовых слов, получить новый код, также обеспечивающий однозначное декодирование.

Укажите код, который удовлетворяет этому требованию. Если таких кодов несколько, укажите тот, для которого сумма длин кодовых слов наименьшая.

- 1) А:1; Б:00; В:01; Г:010
- 2) А:11; Б:00; В:011; Г:010
- 3) А:10; Б:1; В:011; Г:010
- 4) А:1; Б:00; В:011; Г:010

Ответ:

10

Для кодирования некоторой последовательности, состоящей из букв А, Б, В, Г и Д, используется неравномерный двоичный код, позволяющий однозначно декодировать полученную двоичную последовательность. Вот этот код: А – 1; Б – 011; В – 001; Г – 000; Д – 0100. Требуется сократить для одной из букв длину кодового слова так, чтобы код по-прежнему можно было декодировать однозначно. Коды остальных букв меняться не должны.

Каким из указанных способов это можно сделать?

- 1) для буквы Д – 010
- 2) это невозможно
- 3) для буквы Д – 01
- 4) для буквы В – 01

Ответ:

11

Для кодирования некоторой последовательности, состоящей из букв А, Б, В, Г и Д, используется неравномерный двоичный код, позволяющий однозначно декодировать полученную двоичную последовательность. Вот этот код: А – 1; Б – 0110; В – 010; Г – 000; Д – 001. Требуется сократить для одной из букв длину кодового слова так, чтобы код по-прежнему можно было декодировать однозначно. Коды остальных букв меняться не должны.

Каким из указанных способов это можно сделать?

- 1) для буквы В – 01
- 2) это невозможно
- 3) для буквы Б – 011
- 4) для буквы Б – 01

Ответ:

12

Для кодирования некоторой последовательности, состоящей из букв А, Б, В, Г и Д, используется неравномерный двоичный код, позволяющий однозначно декодировать полученную двоичную последовательность. Вот этот код: А – 1; Б – 010; В – 0110; Г – 000; Д – 001. Требуется сократить для одной из букв длину кодового слова так, чтобы код по-прежнему можно было декодировать однозначно. Коды остальных букв меняться не должны.

Каким из указанных способов это можно сделать?

- 1) для буквы В – 011
- 2) это невозможно
- 3) для буквы В – 01
- 4) для буквы Б – 01

Ответ:

Ответами к заданиям 13–30 являются число, последовательность букв или цифр. Впишите ответы в текст экзаменационной работы.

13

Все 5-буквенные слова, составленные из букв О, Э, Я, записаны в алфавитном порядке и пронумерованы.

Вот начало списка:

1. ООООО
2. ООООЭ
3. ООООЯ
4. ООЭО

.....

Запишите слово, которое стоит под номером **238**.

Ответ: _____.

14

Все 4-буквенные слова, составленные из букв В, Н, Р, Т, записаны в алфавитном порядке и пронумерованы.

Вот начало списка:

1. ВВВВ
2. ВВВН
3. ВВВР
4. ВВВТ
5. ВВНВ

.....

Запишите слово, которое стоит под номером **249**.

Ответ: _____.

15

Все 4-буквенные слова, составленные из букв К, Л, Р, Т, записаны в алфавитном порядке и пронумерованы.

Вот начало списка:

1. КККК
2. КККЛ
3. КККР
4. КККТ

.....

Запишите слово, которое стоит под номером **67**.

Ответ: _____.

16

Все 5-буквенные слова, составленные из букв О, Э, Я, записаны в алфавитном порядке и пронумерованы.

Вот начало списка:

1. ООООО
2. ООООЭ
3. ООООЯ
4. ООЭО

.....

Запишите слово, которое стоит под номером **241**.

Ответ: _____.

17

Все 5-буквенные слова, составленные из букв А, Е, У, записаны в алфавитном порядке и пронумерованы.

Вот начало списка:

1. ААААА
2. ААААЕ
3. ААААУ
4. АААЕА

.....

Запишите слово, которое стоит под номером **242**.

Ответ: _____.

18

Все 5-буквенные слова, составленные из букв А, Е, У, записаны в алфавитном порядке и пронумерованы.

Вот начало списка:

1. ААААА
2. ААААЕ
3. ААААУ
4. АААЕА

.....

Запишите слово, которое стоит под номером **240**.

Ответ: _____.

19

При регистрации в компьютерной системе каждому пользователю выдаётся пароль, состоящий из 15 символов и содержащий только символы из 12-символьного набора: А, В, С, D, E, F, G, H, K, L, M, N. В базе данных для хранения сведений о каждом пользователе отведено одинаковое и минимально возможное целое число байт. При этом используют посимвольное кодирование паролей, все символы кодируют одинаковым и минимально возможным количеством бит. Кроме собственно пароля, для каждого пользователя в системе хранятся дополнительные сведения, для чего отведено 12 байт на одного пользователя.

Определите объём памяти (в байтах), необходимый для хранения сведений о 50 пользователях. В ответе запишите только целое число – количество байт.

Ответ: _____.

20

При регистрации в компьютерной системе каждому пользователю выдаётся пароль, состоящий из 15 символов и содержащий только цифры и буквы У, Ч, И, Т, Е, Л, Ь (таким образом, используется 17 различных символов). Каждый такой пароль в компьютерной системе записывается минимально возможным и одинаковым целым количеством байт (при этом используют посимвольное кодирование и все символы кодируются одинаковым и минимально возможным количеством бит).

Определите объём памяти (в байтах), отводимый этой системой для записи 20 паролей.

Ответ: _____.

21

При регистрации в компьютерной системе каждому пользователю выдаётся пароль, состоящий из 25 символов и содержащий только символы Е, Г, Э, 2, 1, 0, 5. В базе данных для хранения сведений о каждом пользователе отведено одинаковое и минимально возможное целое число байт. При этом используют посимвольное кодирование паролей, все символы кодируют одинаковым и минимально возможным количеством бит. Кроме собственно пароля, для каждого пользователя в системе хранятся дополнительные сведения, для чего отведено 14 байт на одного пользователя.

Определите объём памяти (в байтах), необходимый для хранения сведений о 50 пользователях. В ответе запишите только целое число – количество байт.

Ответ: _____.

22

При регистрации в компьютерной системе каждому пользователю выдаётся пароль, состоящий из 15 символов и содержащий только символы из 10-символьного набора: А, В, С, D, E, F, K, L, M, N. В базе данных для хранения сведений о каждом пользователе отведено одинаковое и минимально возможное целое число байт. При этом используют посимвольное кодирование паролей, все символы кодируют одинаковым и минимально возможным количеством бит. Кроме собственно пароля, для каждого пользователя в системе хранятся дополнительные сведения, для чего отведено 12 байт на одного пользователя.

Определите объём памяти (в байтах), необходимый для хранения сведений о 20 пользователях. В ответе запишите только целое число – количество байт.

Ответ: _____.

23

При регистрации в компьютерной системе каждому пользователю выдаётся пароль, состоящий из 10 символов и содержащий только символы из 10-символьного набора: А, В, С, D, E, F, K, L, M, N. В базе данных для хранения сведений о каждом пользователе отведено одинаковое и минимально возможное целое число байт. При этом используют посимвольное кодирование паролей, все символы кодируют одинаковым и минимально возможным количеством бит. Кроме собственно пароля, для каждого пользователя в системе хранятся дополнительные сведения, для чего отведено 8 байт на одного пользователя.

Определите объём памяти (в байтах), необходимый для хранения сведений о 10 пользователях. В ответе запишите только целое число – количество байт.

Ответ: _____.

24

При регистрации в компьютерной системе каждому пользователю выдаётся пароль, состоящий из 14 символов и содержащий только символы из 10-символьного набора: А, В, С, D, E, F, K, L, M, N. В базе данных для хранения сведений о каждом пользователе отведено одинаковое и минимально возможное целое число байт. При этом используют посимвольное кодирование паролей, все символы кодируют одинаковым и минимально возможным количеством бит. Кроме собственно пароля, для каждого пользователя в системе хранятся дополнительные сведения, для чего отведено 8 байт на одного пользователя.

Определите объём памяти (в байтах), необходимый для хранения сведений о 10 пользователях. В ответе запишите только целое число – количество байт.

Ответ: _____.

25

Документ объёмом 30 Мбайт можно передать с одного компьютера на другой двумя способами.

А. Сжать архиватором, передать архив по каналу связи, распаковать.

Б. Передать по каналу связи без использования архиватора.

Какой способ быстрее и насколько, если:

средняя скорость передачи данных по каналу связи составляет 2^{20} бит в секунду;

объём сжатого архиватором документа равен 60% исходного;

время, требуемое на сжатие документа, – 10 секунд, на распаковку – 2 секунды?

В ответе напишите букву А, если быстрее способ А, или Б, если быстрее способ Б. Сразу после буквы напишите число, обозначающее, на сколько секунд один способ быстрее другого.

Так, например, если способ Б быстрее способа А на 23 секунды, в ответе нужно написать Б23.

Единицы измерения «секунд», «сек.», «с» к ответу добавлять не нужно.

Ответ: _____.

26

Документ объёмом 20 Мбайт можно передать с одного компьютера на другой двумя способами.

А. Сжать архиватором, передать архив по каналу связи, распаковать.

Б. Передать по каналу связи без использования архиватора.

Какой способ быстрее и насколько, если:

- средняя скорость передачи данных по каналу связи составляет 2^{20} бит в секунду;
- объём сжатого архиватором документа равен 60% исходного;
- время, требуемое на сжатие документа, – 10 секунд, на распаковку – 2 секунды?

В ответе напишите букву А, если быстрее способ А, или Б, если быстрее способ Б. Сразу после буквы напишите число, обозначающее, на сколько секунд один способ быстрее другого.

Так, например, если способ Б быстрее способа А на 23 секунды, в ответе нужно написать Б23.

Единицы измерения «секунд», «сек.», «с» к ответу добавлять не нужно.

Ответ: _____.

27

Документ объёмом 30 Мбайт можно передать с одного компьютера на другой двумя способами.

А. Сжать архиватором, передать архив по каналу связи, распаковать.

Б. Передать по каналу связи без использования архиватора.

Какой способ быстрее и насколько, если:

- средняя скорость передачи данных по каналу связи составляет 2^{19} бит в секунду;
- объём сжатого архиватором документа равен 50% исходного;
- время, требуемое на сжатие документа, – 10 секунд, на распаковку – 2 секунды?

В ответе напишите букву А, если быстрее способ А, или Б, если быстрее способ Б. Сразу после буквы напишите число, обозначающее, на сколько секунд один способ быстрее другого.

Так, например, если способ Б быстрее способа А на 23 секунды, в ответе нужно написать Б23.

Единицы измерения «секунд», «сек.», «с» к ответу добавлять не нужно.

Ответ: _____.

28

Документ объёмом 10 Мбайт можно передать с одного компьютера на другой двумя способами.

А. Сжать архиватором, передать архив по каналу связи, распаковать.

Б. Передать по каналу связи без использования архиватора.

Какой способ быстрее и насколько, если:

средняя скорость передачи данных по каналу связи составляет 2^{20} бит в секунду;

объём сжатого архиватором документа равен 60% исходного;

время, требуемое на сжатие документа, – 10 секунд, на распаковку – 2 секунды?

В ответе напишите букву А, если быстрее способ А, или Б, если быстрее способ Б. Сразу после буквы напишите число, обозначающее, на сколько секунд один способ быстрее другого.

Так, например, если способ Б быстрее способа А на 23 секунды, в ответе нужно написать Б23.

Единицы измерения «секунд», «сек.», «с» к ответу добавлять не нужно.

Ответ: _____.

29

Документ объёмом 6 Мбайт можно передать с одного компьютера на другой двумя способами.

А. Сжать архиватором, передать архив по каналу связи, распаковать.

Б. Передать по каналу связи без использования архиватора.

Какой способ быстрее и насколько, если:

средняя скорость передачи данных по каналу связи составляет 2^{20} бит в секунду;

объём сжатого архиватором документа равен 50% исходного;

время, требуемое на сжатие документа, – 12 секунд, на распаковку – 3 секунды?

В ответе напишите букву А, если быстрее способ А, или Б, если быстрее способ Б. Сразу после буквы напишите число, обозначающее, на сколько секунд один способ быстрее другого.

Так, например, если способ Б быстрее способа А на 23 секунды, в ответе нужно написать Б23.

Единицы измерения «секунд», «сек.», «с» к ответу добавлять не нужно.

Ответ: _____.

30

Документ объёмом 5 Мбайт можно передать с одного компьютера на другой двумя способами.

А. Сжать архиватором, передать архив по каналу связи, распаковать.

Б. Передать по каналу связи без использования архиватора.

Какой способ быстрее и насколько, если:

средняя скорость передачи данных по каналу связи составляет 2^{20} бит в секунду;

объём сжатого архиватором документа равен 60% исходного;

время, требуемое на сжатие документа, – 12 секунд, на распаковку – 3 секунды?

В ответе напишите букву А, если быстрее способ А, или Б, если быстрее способ Б. Сразу после буквы напишите число, обозначающее, на сколько секунд один способ быстрее другого.

Так, например, если способ Б быстрее способа А на 23 секунды, в ответе нужно написать Б23.

Единицы измерения «секунд», «сек.», «с» к ответу добавлять не нужно.

Ответ: _____.

Ответы к заданиям раздела 1

№ задания	Ответ
1	2
2	3
3	4
4	3
5	3
6	4
7	3
8	1
9	4
10	1
11	3
12	1
13	ЯЯЯЭО
14	ТТРВ
15	ЛККР
16	ЯЯЯЮ
17	УУУУЕ
18	УУУЕУ
19	1000
20	200
21	1200
22	400
23	130
24	150
25	A84
26	A52
27	A228
28	A20
29	A9
30	A1

РАЗДЕЛ 2

Системы счисления, логика, моделирование

Вопросы для экзамена в устной форме

Базовый уровень экзамена

1. Запись натуральных чисел в двоичной системе. Запись натуральных чисел в восьмеричной и шестнадцатеричной системах. Перевод чисел, записанных в двоичной системе, в восьмеричную и шестнадцатеричную системы.
2. Алгоритм перевода чисел из десятичной системы в двоичную (словесное описание).
3. Алгоритм перевода чисел из двоичной системы в десятичную (словесное описание).
4. Подсчитать количество двоичных последовательностей длины 10 (словесное описание подсчёта и объяснение).

Профильный уровень экзамена

1. Запись натуральных чисел в двоичной системе. Запись натуральных чисел в восьмеричной и шестнадцатеричной системах. Перевод чисел, записанных в двоичной системе, в восьмеричную и шестнадцатеричную систему. Перевод чисел, записанных в восьмеричной и шестнадцатеричной системах в двоичную систему.
2. Запись натуральных чисел в позиционной системе с заданным основанием. Свойства позиционной записи (примеры: количество цифр в записи числа, ноль в конце записи).
3. Логические (булевы) выражения, их истинность и ложность. Эквивалентные преобразования булевых выражений.
4. Таблицы истинности булевых выражений.
5. Графы и их использование для моделирования объектов и процессов. Вершина, ребро, путь. Вес пути. Понятие минимального пути.

Задания для экзамена в письменной форме

Ответом к заданиям 1–18 является одна цифра или число. Ответ к заданиям 1–18 запишите в отведённом месте работы.

1 Сколько значащих нулей в двоичной записи десятичного числа 1024?

- 1) 1
- 2) 9
- 3) 10
- 4) 11

Ответ:

2 Сколько значащих цифр в двоичной записи десятичного числа 64?

- 1) 1
- 2) 5
- 3) 6
- 4) 7

Ответ:

3 Сколько значащих нулей в двоичной записи десятичного числа 126?

- 1) 1
- 2) 6
- 3) 7
- 4) 8

Ответ:

4 Сколько значащих нулей в двоичной записи десятичного числа 129?

- 1) 1
- 2) 2
- 3) 6
- 4) 8

Ответ:

5 Сколько значащих цифр в двоичной записи десятичного числа 254?

- 1) 1
- 2) 7
- 3) 8
- 4) 9

Ответ:

6 Сколько значащих цифр в двоичной записи десятичного числа 256?

- 1) 1
- 2) 7
- 3) 8
- 4) 9

Ответ:

7 Дан фрагмент таблицы истинности выражения F .

x_1	x_2	x_3	x_4	x_5	x_6	x_7	F
0	0	0	1	1	1	1	0
1	0	1	0	1	1	0	0
0	1	0	1	1	0	1	1

Каким из приведённых ниже выражений может быть F ?

- 1) $\neg x_1 \wedge x_2 \wedge \neg x_3 \wedge x_4 \wedge x_5 \wedge \neg x_6 \wedge x_7$
- 2) $x_1 \vee x_2 \vee x_3 \vee \neg x_4 \vee \neg x_5 \vee \neg x_6 \vee \neg x_7$
- 3) $x_1 \wedge \neg x_2 \wedge x_3 \wedge \neg x_4 \wedge x_5 \wedge x_6 \wedge \neg x_7$
- 4) $x_1 \vee \neg x_2 \vee x_3 \vee \neg x_4 \vee \neg x_5 \vee x_6 \vee \neg x_7$

Ответ:

8

Дан фрагмент таблицы истинности выражения F .

x_1	x_2	x_3	x_4	x_5	x_6	x_7	F
0	1	0	1	1	1	1	1
1	0	1	0	1	1	0	1
0	1	0	1	1	0	1	0

Каким из приведённых ниже выражений может быть F ?

- 1) $x_1 \wedge \neg x_2 \wedge x_3 \wedge \neg x_4 \wedge x_5 \wedge x_6 \wedge \neg x_7$
- 2) $x_1 \vee \neg x_2 \vee x_3 \vee \neg x_4 \vee \neg x_5 \vee x_6 \vee \neg x_7$
- 3) $\neg x_1 \wedge x_2 \wedge \neg x_3 \wedge x_4 \wedge x_5 \wedge x_6 \wedge x_7$
- 4) $x_1 \vee x_2 \vee \neg x_3 \vee x_4 \vee x_5 \vee \neg x_6 \vee x_7$

Ответ:

9

Яша заполнял таблицу истинности для выражения F . Он успел заполнить лишь небольшой фрагмент таблицы.

x_1	x_2	x_3	x_4	x_5	x_6	x_7	x_8	F
		0				1	1	0
			0			0		0
				1	0			1

Каким выражением может быть F ?

- 1) $x_1 \wedge \neg x_2 \wedge x_3 \wedge \neg x_4 \wedge x_5 \wedge x_6 \wedge \neg x_7 \wedge x_8$
- 2) $x_1 \vee \neg x_2 \vee x_3 \vee \neg x_4 \vee \neg x_5 \vee x_6 \vee \neg x_7 \vee \neg x_8$
- 3) $x_1 \vee x_2 \vee x_3 \vee \neg x_4 \vee \neg x_5 \vee \neg x_6 \vee \neg x_7 \vee \neg x_8$
- 4) $\neg x_1 \wedge x_2 \wedge \neg x_3 \wedge x_4 \wedge x_5 \wedge \neg x_6 \wedge x_7 \wedge x_8$

Ответ:

10Дан фрагмент таблицы истинности выражения F .

x_1	x_2	x_3	x_4	x_5	x_6	x_7	F
1	0	0	1	1	1	1	1
0	1	0	0	1	1	0	0
0	1	0	1	1	0	1	1

Каким из приведённых ниже выражений может быть F ?

- 1) $x_1 \wedge \neg x_2 \wedge x_3 \wedge \neg x_4 \wedge x_5 \wedge x_6 \wedge \neg x_7$
- 2) $x_1 \vee \neg x_2 \vee x_3 \vee \neg x_4 \vee \neg x_5 \vee x_6 \vee \neg x_7$
- 3) $\neg x_1 \wedge x_2 \wedge \neg x_3 \wedge x_4 \wedge x_5 \wedge x_6 \wedge x_7$
- 4) $x_1 \vee \neg x_2 \vee x_3 \vee x_4 \vee \neg x_5 \vee \neg x_6 \vee x_7$

Ответ:

11Дан фрагмент таблицы истинности выражения F .

x_1	x_2	x_3	x_4	x_5	x_6	x_7	F
1	0	0	1	1	1	1	0
1	0	1	0	1	1	0	1
0	1	0	1	1	0	1	0

Каким из приведённых ниже выражений может быть F ?

- 1) $\neg x_1 \wedge x_2 \wedge \neg x_3 \wedge \neg x_4 \wedge x_5 \wedge \neg x_6 \wedge x_7$
- 2) $x_1 \vee x_2 \vee x_3 \vee \neg x_4 \vee \neg x_5 \vee \neg x_6 \vee \neg x_7$
- 3) $x_1 \wedge \neg x_2 \wedge x_3 \wedge \neg x_4 \wedge x_5 \wedge x_6 \wedge \neg x_7$
- 4) $x_1 \vee \neg x_2 \vee x_3 \vee x_4 \vee \neg x_5 \vee \neg x_6 \vee x_7$

Ответ:

12

Дан фрагмент таблицы истинности выражения F .

x_1	x_2	x_3	x_4	x_5	x_6	x_7	F
1	0	0	1	1	1	1	1
1	0	1	0	1	1	0	0
0	1	0	1	1	0	1	0

Каким из приведённых ниже выражений может быть F ?

- 1) $\neg x_1 \wedge x_2 \wedge \neg x_3 \wedge \neg x_4 \wedge x_5 \wedge \neg x_6 \wedge x_7$
- 2) $x_1 \vee x_2 \vee x_3 \vee \neg x_4 \vee \neg x_5 \vee \neg x_6 \vee \neg x_7$
- 3) $x_1 \wedge \neg x_2 \wedge \neg x_3 \wedge x_4 \wedge x_5 \wedge x_6 \wedge x_7$
- 4) $\neg x_1 \vee \neg x_2 \vee x_3 \vee x_4 \vee \neg x_5 \vee \neg x_6 \vee x_7$

Ответ:

13

На числовой прямой даны два отрезка: $P = [20; 60]$ и $Q = [40; 80]$. Выберите такой отрезок A , чтобы приведённая ниже формула была истинна при любом значении переменной x .

$$((x \in A) \rightarrow \neg(x \in P)) \rightarrow ((x \in A) \rightarrow (x \in Q))$$

- 1) $[10; 30]$
- 2) $[30; 50]$
- 3) $[50; 85]$
- 4) $[85; 100]$

Ответ:

14

На числовой прямой даны два отрезка: $P = [27; 50]$ и $Q = [30; 67]$. Выберите такой отрезок A , чтобы приведённая ниже формула была истинна при любом значении переменной x .

$$\neg(x \in A) \rightarrow (((x \in P) \wedge (x \in Q)) \rightarrow (x \in A))$$

- 1) $[45; 80]$
- 2) $[29; 61]$
- 3) $[20; 41]$
- 4) $[10; 27]$

Ответ:

15

На числовой прямой даны два отрезка: $P = [40; 80]$ и $Q = [60; 90]$. Выберите такой отрезок A , чтобы приведённая ниже формула была истинна при любом значении переменной x

$$((x \in P) \rightarrow \neg(x \in A)) \rightarrow ((x \in A) \rightarrow (x \in Q))$$

- 1) [55; 100]
- 2) [45; 90]
- 3) [35; 60]
- 4) [20; 35]

Ответ:

16

На числовой прямой даны два отрезка: $P = [20; 60]$ и $Q = [40; 80]$. Выберите такой отрезок A , чтобы приведённая ниже формула была истинна при любом значении переменной x .

$$((x \in A) \rightarrow \neg(x \in Q)) \rightarrow ((x \in A) \rightarrow (x \in P))$$

- 1) [10; 30]
- 2) [30; 50]
- 3) [50; 85]
- 4) [85; 100]

Ответ:

17

На числовой прямой даны два отрезка: $P = [30; 60]$ и $Q = [40; 70]$. Выберите такой отрезок A , чтобы приведённая ниже формула была истинна при любом значении переменной x :

$$\neg(x \in Q) \rightarrow ((x \in A) \rightarrow (x \in P))$$

- 1) [10; 25]
- 2) [20; 50]
- 3) [50; 65]
- 4) [80; 100]

Ответ:

18

На числовой прямой даны два отрезка: $P = [30; 70]$ и $Q = [50; 90]$. Выберите такой отрезок A , чтобы приведённая ниже формула была истинна при любом значении переменной x :

$$\neg(x \in A) \rightarrow ((x \in Q) \rightarrow (x \in P))$$

- 1) $[20; 60]$
- 2) $[40; 80]$
- 3) $[60; 100]$
- 4) $[80; 120]$

Ответ:

Ответами к заданиям 19–36 являются число, последовательность букв или цифр. Впишите ответы в текст экзаменационной работы.

19

Между населёнными пунктами А, В, С, D, E, F построены дороги, протяжённость которых приведена в таблице. Отсутствие числа в таблице означает, что прямой дороги между пунктами нет.

	A	B	C	D	E	F
A		3	4	4		16
B	3			5		
C	4			2		
D	4	5	2		6	10
E				6		3
F	16			10	3	

Определите длину кратчайшего пути между пунктами А и F при условии, что передвигаться можно только по указанным в таблице дорогам.

Ответ: _____.

20

Между населёнными пунктами А, В, С, D, E, F построены дороги, протяжённость которых приведена в таблице. Отсутствие числа в таблице означает, что прямой дороги между пунктами нет.

	A	B	C	D	E	F
A		1	2	4		18
B	1			4		
C	2			3		
D	4	4	3		4	12
E				4		6
F	18			12	6	

Определите длину кратчайшего пути между пунктами А и F при условии, что передвигаться можно только по указанным в таблице дорогам.

Ответ: _____.

21

Между населёнными пунктами А, В, С, D, E, F, G построены дороги, протяжённость которых приведена в таблице. Отсутствие числа в таблице означает, что прямой дороги между пунктами нет.

	A	B	C	D	E	F	G
A		5		12			25
B	5			8			
C				2	4	5	10
D	12	8	2				
E			4				5
F			5				5
G	25		10		5	5	

Определите длину кратчайшего пути между пунктами А и G при условии, что передвигаться можно только по построенным дорогам.

Ответ: _____.

22

Между населёнными пунктами А, В, С, D, E, F построены дороги, протяжённость которых приведена в таблице. Отсутствие числа в таблице означает, что прямой дороги между пунктами нет.

	A	B	C	D	E	F
A		1	4	4		16
B	1			3		
C	4			2		
D	4	3	2		6	10
E				6		3
F	16			10	3	

Определите длину кратчайшего пути между пунктами А и F при условии, что передвигаться можно только по указанным в таблице дорогам.

Ответ: _____.

23

Между населёнными пунктами A , B , C , D , E , F построены дороги, протяжённость которых приведена в таблице. Отсутствие числа в таблице означает, что прямой дороги между пунктами нет.

	A	B	C	D	E	F
A		4	7		6	
B	4			4	4	
C	7			5		9
D		4	5			5
E	6	4				8
F			9	5	8	

Определите длину кратчайшего пути между пунктами A и F при условии, что передвигаться можно только по указанным в таблице дорогам.

Ответ: _____.

24

Между населёнными пунктами A , B , C , D , E , F построены дороги, протяжённость которых приведена в таблице. Отсутствие числа в таблице означает, что прямой дороги между пунктами нет.

	A	B	C	D	E	F
A		3	5		6	
B	3			4	4	
C	5			5		8
D		4	5			4
E	6	4				8
F			8	4	8	

Определите длину кратчайшего пути между пунктами A и F при условии, что передвигаться можно только по указанным в таблице дорогам.

Ответ: _____.

25 Укажите наименьшее основание системы счисления, в которой запись десятичного числа 63 двузначна.

Ответ: _____.

26 Сколько единиц содержится в двоичной записи значения выражения:
 $4^{2017} + 2^{2019} - 10$?

Ответ: _____.

27 Укажите наибольшее основание системы счисления, в которой запись десятичного числа 17 трёхзначна.

Ответ: _____.

28 Укажите наименьшее основание системы счисления, в которой запись десятичного числа 72 двузначна.

Ответ: _____.

29 Укажите наименьшее основание системы счисления, в которой запись десятичного числа 62 двузначна.

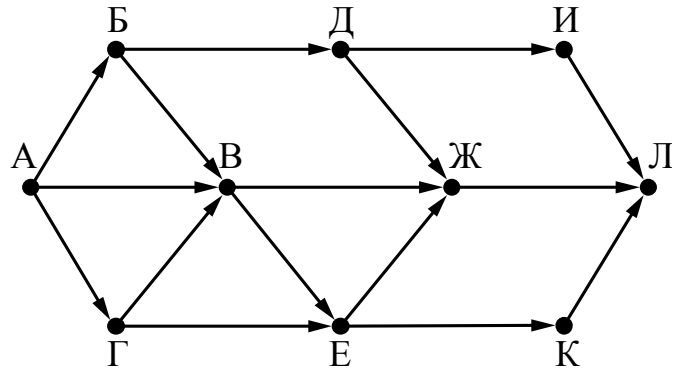
Ответ: _____.

30 Укажите наименьшее основание системы счисления, в которой запись десятичного числа 47 двузначна.

Ответ: _____.

31

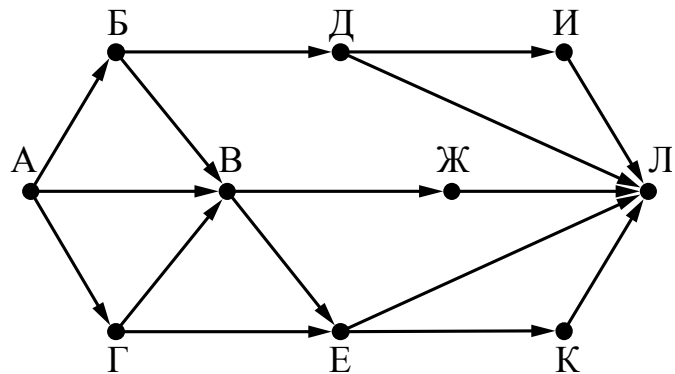
На рисунке – схема дорог, связывающих города А, Б, В, Г, Д, Е, Ж, И, К, Л. По каждой дороге можно двигаться только в одном направлении, указанном стрелкой. Сколько существует различных путей из города А в город Л?



Ответ: _____.

32

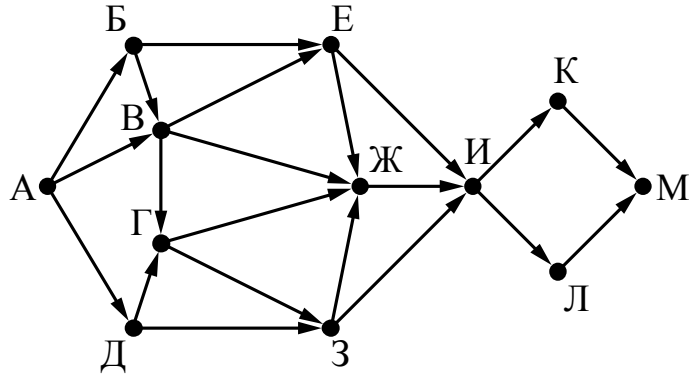
На рисунке – схема дорог, связывающих города А, Б, В, Г, Д, Е, Ж, И, К, Л. По каждой дороге можно двигаться только в одном направлении, указанном стрелкой. Сколько существует различных путей из города А в город Л?



Ответ: _____.

33

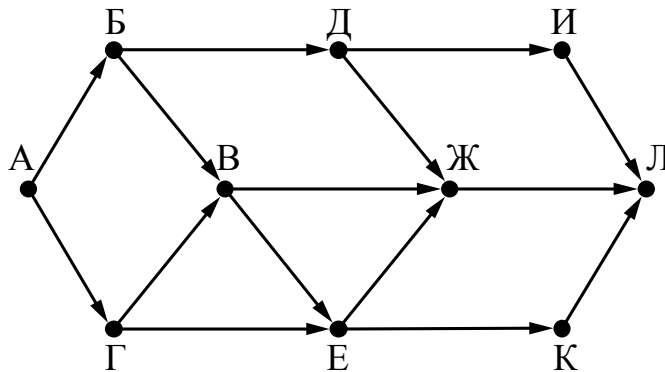
На рисунке – схема дорог, связывающих города А, Б, В, Г, Д, Е, Ж, З, И, К, Л, М. По каждой дороге можно двигаться только в одном направлении, указанном стрелкой. Сколько существует различных путей из города А в город М?



Ответ: _____.

34

На рисунке – схема дорог, связывающих города А, Б, В, Г, Д, Е, Ж, И, К, Л. По каждой дороге можно двигаться только в одном направлении, указанном стрелкой. Сколько существует различных путей из города А в город Л?



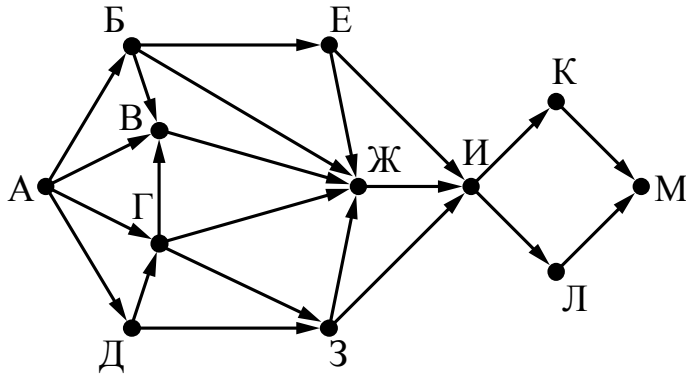
Ответ: _____.

35

На рисунке представлена схема дорог, связывающих города А, Б, В, Г, Д, Е, Ж, З, И, К, Л, М.

По каждой дороге можно двигаться только в одном направлении, указанном стрелкой.

Сколько существует различных путей из города А в город М?



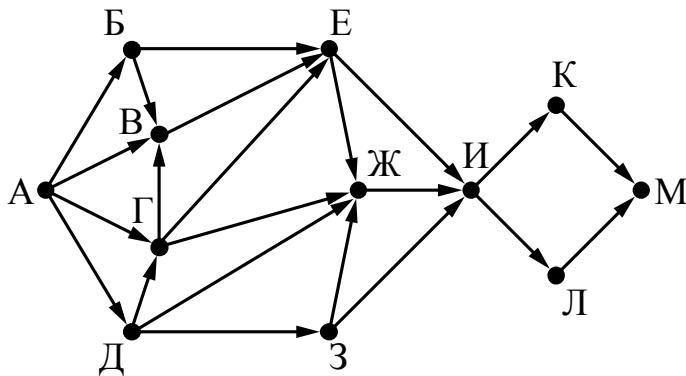
Ответ: _____.

36

На рисунке представлена схема дорог, связывающих города А, Б, В, Г, Д, Е, Ж, З, И, К, Л, М.

По каждой дороге можно двигаться только в одном направлении, указанном стрелкой.

Сколько существует различных путей из города А в город М?



Ответ: _____.

Ответы к заданиям раздела 2

№ задания	Ответ
1	3
2	4
3	1
4	3
5	3
6	4
7	1
8	2
9	4
10	4
11	3
12	3
13	2
14	2
15	2
16	2
17	3
18	3
19	13
20	14
21	23
22	13
23	13
24	11
25	8
26	2018
27	4
28	9
29	8
30	7
31	13
32	13
33	38
34	10
35	30
36	38

РАЗДЕЛ 3

Информационные технологии

Вопросы для экзамена в устной форме

Базовый уровень экзамена

1. Программный принцип работы компьютера. Операционные системы.
2. Примеры типов программного обеспечения персонального компьютера (компиляторы и системы программирования, программы для работы с текстами, электронные таблицы, браузеры, программы для работы с изображениями и звуком, антивирусные программы и др.).
3. Технологии работы с текстовыми документами. Текстовые редакторы. Понятие гипертекста.
4. Поисковые информационные системы. Организация поиска информации. Поисковые запросы.
5. Архитектура компьютера: процессор, оперативная память, внешняя энергонезависимая память, устройства ввода-вывода. Назначение и количественные характеристики компонент компьютера.
6. Вредоносное программное обеспечение и средства защиты от него.
7. Локальные и глобальные компьютерные сети. Аппаратные и программные средства организации компьютерных сетей. Социальные сети.
8. Динамические (электронные) таблицы. Использование электронных таблиц для обработки числовых данных (на примерах).
9. Динамические (электронные) таблицы. Графическое представление данных. Графики. Диаграммы (круговая, столбчатая).
10. По данной электронной таблице расхода бензина и суточного пробега автомобиля вычислить суммарный расход бензина и пробег в текущем месяце.
11. В данной электронной таблице, содержащей цены товаров и количество отпущенных единиц товара, рассчитать стоимость каждой товарной позиции и закупки в целом, а также выделить НДС 18%.
12. В данной электронной таблице средних значений температуры за каждый день года выяснить, в какой день года была самая высокая средняя температура.
13. Базы данных. Принципы организации реляционной базы данных. Таблица как представление отношения. Межтабличные связи. Ключевые поля.

Профильный уровень экзамена

1. Архитектура компьютеров. Программная и аппаратная организация компьютеров. Операционные системы.
2. Вредоносное программное обеспечение и средства защиты от него.
3. Компьютерные сети. IP-адресация узлов сети. Маски подсети. URL-адреса.
4. Принципы организации Интернета. Роль информационных технологий в современном обществе.
5. Динамические (электронные) таблицы. Абсолютная и относительная адресация ячеек, диапазоны ячеек. Формулы. Динамическое изменение относительных адресов при перемещении ячейки с формулой.
6. По данной электронной таблице расхода бензина и суточного пробега автомобиля вычислить средний расход бензина на 100 км пути в текущем месяце.
7. В данной электронной таблице средних значений температуры за каждый день года выяснить, сколько в году было дней, когда средняя температура была выше определённого значения.
8. Базы данных. Принципы организации реляционной базы данных. Таблица как представление отношения. Межтабличные связи. Ключевые поля.

Задания для письменной формы экзамена

Ответом к заданиям 1–18 является одна цифра или число. Ответ к заданиям 1–18 запишите в отведённом месте работы.

1

Для групповых операций с файлами используются **маски имён файлов**. Маска представляет собой последовательность букв, цифр и прочих допустимых в именах файлов символов, в которых также могут встречаться следующие символы.

Символ «?» (вопросительный знак) означает ровно один произвольный символ.

Символ «*» (звёздочка) означает любую последовательность символов произвольной длины, в том числе «*» может задавать и пустую последовательность.

В каталоге находится 7 файлов:

- carga.mp3
- cascad.mpeg
- cassa.mp3
- cassandra.mp4
- castrol.mp4
- picasa.map
- picasa.mp4

Определите, по какой из перечисленных масок из этих 7 файлов будет отобрана указанная группа файлов:

- cascad.mpeg
- cassa.mp3
- cassandra.mp4
- picasa.mp4

- 1) *cas*a*.mp*
- 2) *ca*a*.mp*
- 3) *cas*.mp*
- 4) *cas*a*.mp?

Ответ:

2

Для групповых операций с файлами используются **маски имён файлов**. Маска представляет собой последовательность букв, цифр и прочих допустимых в именах файлов символов, в которых также могут встречаться следующие символы.

Символ «?» (вопросительный знак) означает ровно один произвольный символ.

Символ «*» (звёздочка) означает любую последовательность символов произвольной длины, в том числе «*» может задавать и пустую последовательность.

В каталоге находится 6 файлов:

asc.ods
casting.odt
last.ods
pasta.odtx
pasta.old
vast.ods

Определите, по какой из перечисленных масок из этих 6 файлов будет отобрана указанная группа файлов:

casting.odt
last.ods
pasta.odtx
vast.ods

- 1) ?as*.o*
- 2) *as?.od*
- 3) ?as*.od?
- 4) ?as*.od*

Ответ:

3

Для групповых операций с файлами используются **маски имён файлов**. Маска представляет собой последовательность букв, цифр и прочих допустимых в именах файлов символов, в которых также могут встречаться следующие символы.

Символ «?» (вопросительный знак) означает ровно один произвольный символ.

Символ «*» (звёздочка) означает любую последовательность символов произвольной длины, в том числе «*» может задавать и пустую последовательность.

В каталоге находится 6 файлов:

- compare.xls
- compare.xml
- compute.xls
- preparation.xml
- prepare.xlsx
- repare.xlsx

Определите, по какой из перечисленных масок из этих 6 файлов будет отобрана указанная группа файлов:

- compare.xls
- prepare.xlsx

- 1) ???par*.xl*
- 2) ???par*.x*
- 3) *par*.x*
- 4) *par*.xl*

Ответ:

4

Для групповых операций с файлами используются **маски имён файлов**. Маска представляет собой последовательность букв, цифр и прочих допустимых в именах файлов символов, в которых также могут встречаться следующие символы.

Символ «?» (вопросительный знак) означает ровно один произвольный символ.

Символ «*» (звёздочка) означает любую последовательность символов произвольной длины, в том числе «*» может задавать и пустую последовательность.

В каталоге находится 7 файлов:

carga.mp3
cascad.mpeg
cassa.mp3
cassandra.mp4
castrol.mp4
picasa.map
picasa.mp4

Определите, по какой из перечисленных масок из этих 7 файлов будет отобрана указанная группа файлов:

cassa.mp3
cassandra.mp4
picasa.mp4

- 1) *cas*a*.mp*
- 2) *ca*a*.mp*
- 3) *cas*.mp*
- 4) *cas*a*.mp?

Ответ:

5

Для групповых операций с файлами используются **маски имён файлов**. Маска представляет собой последовательность букв, цифр и прочих допустимых в именах файлов символов, в которых также могут встречаться следующие символы.

Символ «?» (вопросительный знак) означает ровно один произвольный символ.

Символ «*» (звёздочка) означает любую последовательность символов произвольной длины, в том числе «*» может задавать и пустую последовательность.

В каталоге находится 8 файлов:

declaration.mpeg
delaware.mov
delete.mix
demo.mp4
distrib.mp2
otdel.mx
prodel.mpeg
sdelka.mp3

Определите, по какой из перечисленных масок из этих 8 файлов будет отобрана указанная группа файлов:

declaration.mpeg
demo.mp4
prodel.mpeg
sdelka.mp3

- 1) *de?.m*
- 2) ?de*.m?
- 3) *de*.mp*
- 4) de*.mp?

Ответ:

6

Для групповых операций с файлами используются **маски имён файлов**. Маска представляет собой последовательность букв, цифр и прочих допустимых в именах файлов символов, в которых также могут встречаться следующие символы.

Символ «?» (вопросительный знак) означает ровно один произвольный символ.

Символ «*» (звёздочка) означает любую последовательность символов произвольной длины, в том числе «*» может задавать и пустую последовательность.

В каталоге находится 8 файлов:

declaration.mpeg
delaware.mp2
delete.mix
demo.mp4
distrib.mp2
otdel.mx
prodel.mpeg
sdelka.mp3

Определите, по какой из перечисленных масок из этих 8 файлов будет отобрана указанная группа файлов:

delaware.mp2
demo.mp4

- 1) *de?.m*
- 2) ?de*.m?
- 3) *de*.mp*
- 4) de*.mp?

Ответ:

7

Ниже представлены две таблицы из базы данных. Каждая строка таблицы 2 содержит информацию о ребёнке и об одном из его родителей. Информация представлена значением поля ID в соответствующей строке таблицы 1. Определите на основании приведённых данных фамилию и инициалы племянника Леоненко А.И.

Пояснение: племянником считается сын брата или сестры.

Таблица 1		
ID	Фамилия_И.О.	Пол
14	Леоненко Н.А.	Ж
23	Геладзе И.П.	М
24	Геладзе П.И.	М
25	Геладзе П.П.	М
34	Леоненко А.И.	Ж
35	Леоненко В.С.	Ж
33	Леоненко С.С.	М
42	Вильямс О.С.	М
44	Гнейс А.С.	Ж
45	Гнейс В.А.	М
47	Вильямс П.О.	М
57	Паоло А.П.	Ж
64	Моор П.А.	Ж
...

Таблица 2	
ID_Родителя	ID_Ребёнка
23	24
44	24
24	25
64	25
23	34
44	34
34	35
33	35
14	33
34	42
33	42
24	57
64	57
...	...

- 1) Геладзе П.И.
- 2) Геладзе П.П.
- 3) Леоненко С.С.
- 4) Паоло А.П.

Ответ:

8

Ниже представлены две таблицы из базы данных. Каждая строка таблицы 2 содержит информацию о ребёнке и об одном из его родителей. Информация представлена значением поля ID в соответствующей строке таблицы 1. Определите на основании приведённых данных, сколько всего внуков и внучек было у Беловой Л.Р.

Таблица 1		
ID	Фамилия_И.О.	Пол
14	Белова Б.В.	Ж
38	Гнедич И.А.	М
48	Петров А.Р.	М
51	Гнедич П.И.	Ж
65	Кипиани Д.К.	Ж
71	Попович М.Р.	М
85	Кучма А.Р.	Ж
91	Рябко Г.И.	Ж
112	Белова Л.Р.	Ж
123	Попович Р.С.	М
...

Таблица 2	
ID_Родителя	ID_Ребёнка
38	51
38	91
51	71
51	85
65	123
91	48
112	51
112	91
123	71
123	85
...	...

- 1) 1
- 2) 2
- 3) 3
- 4) 4

Ответ:

9

Ниже представлены две таблицы из базы данных. Каждая строка таблицы 2 содержит информацию о ребёнке и об одном из его родителей. Информация представлена значением поля ID в соответствующей строке таблицы 1. Определите на основании приведённых данных фамилию и инициалы тётки Лагидзе В.В.

Пояснение: тёткой считается сестра отца или матери.

Таблица 1		
ID	Фамилия_И.О.	Пол
16	Брамс И.М.	Ж
25	Лагидзе А.В.	М
26	Лагидзе В.А.	М
29	Лагидзе В.В.	М
33	Антоненко Т.А.	Ж
37	Антоненко Б.Г.	Ж
38	Антоненко Г.Г.	М
42	Коон А.С.	Ж
47	Коон В.А.	М
48	Храпко К.Г.	Ж
49	Храпко И.К.	М
55	Петрова Н.В.	Ж
61	Груша Г.В.	Ж
...

Таблица 2	
ID_Родителя	ID_Ребёнка
25	26
42	26
26	29
61	29
25	33
42	33
33	37
38	37
16	38
33	48
38	48
26	55
61	55
...	...

- 1) Коон А.С.
- 2) Брамс И.М.
- 3) Антоненко Т.А.
- 4) Храпко К.Г.

Ответ:

10

Ниже представлены две таблицы из базы данных. Каждая строка таблицы 2 содержит информацию о ребёнке и об одном из его родителей. Информация представлена значением поля ID в соответствующей строке таблицы 1. Определите на основании приведённых данных фамилию и инициалы племянника Геладзе П.И.

Пояснение: племянником считается сын брата или сестры.

ID	Фамилия_И.О.	Пол
14	Леоненко Н.А.	Ж
23	Геладзе И.П.	М
24	Геладзе П.И.	М
25	Геладзе П.П.	М
34	Леоненко А.И.	Ж
35	Леоненко В.С.	М
33	Леоненко С.С.	М
42	Вильямс О.С.	Ж
44	Гнейс А.С.	Ж
45	Гнейс В.А.	М
47	Вильямс П.О.	М
57	Паоло А.П.	Ж
64	Моор П.А.	Ж
...

ID_Родителя	ID_Ребёнка
23	24
44	24
24	25
64	25
23	34
44	34
34	35
33	35
14	33
34	42
33	42
24	57
64	57
...	...

- 1) Вильямс П.О.
- 2) Геладзе П.П.
- 3) Леоненко А.И.
- 4) Леоненко В.С.

Ответ:

11

Ниже представлены две таблицы из базы данных. Каждая строка таблицы 2 содержит информацию о ребёнке и об одном из его родителей. Информация представлена значением поля ID в соответствующей строке таблицы 1. Определите на основании приведённых данных фамилию и инициалы племянника Леоненко В.П.

Пояснение: племянником считается сын брата или сестры.

Таблица 1		
ID	Фамилия_И.О.	Пол
10	Антоненко А.А.	М
11	Антоненко Н.А.	Ж
12	Геладзе П.И.	М
13	Евлахович С.А.	Ж
14	Геладзе П.П.	М
15	Леоненко В.П.	Ж
16	Леоненко С.С.	М
17	Вильямс О.С.	Ж
18	Гнейс А.С.	М
19	Гнейс В.С.	Ж
20	Вильямс П.О.	Ж
21	Вильямс С.П.	М
22	Калантарян Е.П.	Ж
23	Паоло А.С.	Ж
24	Леоненко М.С.	М
...

Таблица 2	
ID_Родителя	ID_Ребёнка
11	14
11	15
12	14
12	15
13	16
14	21
14	22
15	19
15	23
15	24
16	19
16	23
16	24
17	21
17	22
...	...

- 1) Вильямс С.П.
- 2) Геладзе П.И.
- 3) Леоненко М.С.
- 4) Леоненко С.С.

Ответ:

12

Ниже представлены две таблицы из базы данных. Каждая строка таблицы 2 содержит информацию о ребёнке и об одном из его родителей. Информация представлена значением поля ID в соответствующей строке таблицы 1. Определите на основании приведённых данных фамилию и инициалы племянницы Леоненко В.П.

Пояснение: племянницей считается дочь брата или сестры.

Таблица 1		
ID	Фамилия_И.О.	Пол
10	Антоненко А.А.	М
11	Антоненко Н.А.	Ж
12	Геладзе П.И.	М
13	Евлахович С.А.	Ж
14	Геладзе П.П.	М
15	Леоненко В.П.	Ж
16	Леоненко С.С.	М
17	Вильямс О.С.	Ж
18	Гнейс А.С.	М
19	Гнейс В.С.	Ж
20	Вильямс П.О.	Ж
21	Вильямс С.П.	М
22	Калантарян Е.П.	Ж
23	Паоло А.С.	Ж
24	Леоненко М.С.	М
...

Таблица 2	
ID_Родителя	ID_Ребёнка
11	14
11	15
12	14
12	15
13	16
14	21
14	22
15	19
15	23
15	24
16	19
16	23
16	24
17	21
17	22
...	...

- 1) Вильямс О.С.
- 2) Вильямс П.О.
- 3) Калантарян Е.П.
- 4) Паоло А.С.

Ответ:

13

Коле нужно с помощью электронных таблиц построить таблицу значений формулы $3x - 2y$ для значений x и y от 2 до 5.

Для этого сначала в диапазонах B1:E1 и A2:A5 он записал числа от 2 до 5. Затем в ячейку B2 записал формулу (A2 – значение x ; B1 – значение y), после чего скопировал её во все ячейки диапазона B2:E5. В итоге получил таблицу, представленную ниже.

	A	B	C	D	E
1		2	3	4	5
2	2	2	0	-2	-4
3	3	5	3	1	-1
4	4	8	6	4	2
5	5	11	9	7	5

Какая формула была записана в ячейке B2?

Примечание: знак \$ используется для обозначения абсолютной адресации.

- 1) $=3*\$A2-2*\$B1$
- 2) $=3*\$A2-2*B\1
- 3) $=3*A\$2-2*\$B1$
- 4) $=3*A2-2*B1$

Ответ:

14

В электронной таблице значение формулы $=СРЗНАЧ(B5:E5)$ равно 80. Чему равно значение формулы $=СУММ(B5:D5)$, если значение ячейки E5 равно 20?

- 1) 220
- 2) 300
- 3) 320
- 4) 340

Ответ:

15

Дан фрагмент электронной таблицы.

	A	B	C	D
1	1	2	3	
2	5	4	=A2 + B\$3	
3	6	7	=A3 + B3	

Чему станет равным значение ячейки D1, если в неё скопировать формулу из ячейки C2?

Примечание: знак \$ обозначает абсолютную адресацию.

- 1) 8
- 2) 12
- 3) 14
- 4) 17

Ответ:

16

Коле нужно с помощью электронных таблиц построить таблицу значений формулы $6x - 2y$ для значений x и y от 2 до 5.

Для этого сначала в диапазонах B1:E1 и A2:A5 он записал числа от 2 до 5. Затем в ячейку B2 записал формулу (A2 – значение x ; B1 – значение y), после чего скопировал её во все ячейки диапазона B2:E5. В итоге получил таблицу, представленную ниже.

	A	B	C	D	E
1		2	3	4	5
2	2	-4	-6	-8	-10
3	3	8	6	4	2
4	4	14	12	10	8
5	5	20	18	16	14

Какая формула была записана в ячейке B2?

Примечание: знак \$ используется для обозначения абсолютной адресации.

- 1) =6*\$A\$1 – 2*\$B\$1
- 2) =6*\$A1 – 2*\$B1
- 3) =6*A\$1 – 2*\$B1
- 4) =6*A1 – 2*\$B\$1

Ответ:

17

Коле нужно с помощью электронных таблиц построить таблицу значений формулы $7x-2y$ для значений x и y от 2 до 5.

Для этого сначала в диапазонах В1:Е1 и А2:А5 он записал числа от 2 до 5. Затем в ячейку В2 записал формулу (А2 – значение x ; В1 – значение y), после чего скопировал её во все ячейки диапазона В2:Е5. В итоге получил таблицу, представленную ниже.

	А	В	С	Д	Е
1		2	3	4	5
2	2	10	8	6	4
3	3	17	15	13	11
4	4	24	22	20	18
5	5	31	29	27	25

Какая формула была записана в ячейке В2?

Примечание: знак \$ используется для обозначения абсолютной адресации.

- 1) $=7*A2-2*\$B\1
- 2) $=7*A\$2-2*\$B1$
- 3) $=7*\$A\$2-2*\$B\1
- 4) $=7*\$A2-2*\$B1$

Ответ:

18

Коле нужно с помощью электронных таблиц построить таблицу значений формулы $7x-3y$ для значений x и y от 2 до 5.

Для этого сначала в диапазонах B1:E1 и A2:A5 он записал числа от 2 до 5. Затем в ячейку B2 записал формулу (A2 – значение x ; B1 – значение y), после чего скопировал её во все ячейки диапазона B2:E5. В итоге получил таблицу, представленную ниже.

	A	B	C	D	E
1		2	3	4	5
2	2	8	5	2	-1
3	3	15	12	9	6
4	4	22	19	16	13
5	5	29	26	23	20

Какая формула была записана в ячейке B2?

Примечание: знак \$ используется для обозначения абсолютной адресации.

- 1) $=7*\$A2-3*B\1
- 2) $=7*A\$2-3*\$B1$
- 3) $=7*\$A\$2-3*\$B\1
- 4) $=7*A2-3*\$B\1

Ответ:

Ответами к заданиям 19–24 являются число, последовательность букв или цифр. Впишите ответы в текст экзаменационной работы.

19

Дан фрагмент электронной таблицы.

	A	B	C
1		$= (C1 - A1) * 3$	4
2	$= C1 - B2$	1	$= B1$

Какое целое число должно быть записано в ячейке A1, чтобы построенная после выполнения вычислений диаграмма по значениям диапазона ячеек A2:C2 соответствовала рисунку?

Известно, что все значения диапазона, по которым построена диаграмма, имеют один и тот же знак.



Ответ: _____.

20

Дан фрагмент электронной таблицы.

	A	B	C
1	2	1	
2	$= A1 - B1$	$= A1 / 2$	$= C1 - 1$

Какое целое число должно быть записано в ячейке C1, чтобы построенная после выполнения вычислений диаграмма по значениям диапазона ячеек A2:C2 соответствовала рисунку?

Известно, что все значения диапазона, по которым построена диаграмма, имеют один и тот же знак.



Ответ: _____.

21

Дан фрагмент электронной таблицы.

	A	B	C
1	1	6	
2	$=A1+B1/2$	$=(1+A1+B1)/4$	$=(C1-1)*2$

Какое целое число должно быть записано в ячейке C1, чтобы построенная после выполнения вычислений диаграмма по значениям диапазона ячеек A2:C2 соответствовала рисунку?



Известно, что все значения диапазона, по которым построена диаграмма, имеют один и тот же знак.

Ответ: _____.

22

Дан фрагмент электронной таблицы.

	A	B	C
1	3	$=(C1-A1)*3$	
2	$=C1 - B2$	1	$= B1$

Какое целое число должно быть записано в ячейке C1, чтобы построенная после выполнения вычислений диаграмма по значениям диапазона ячеек A2:C2 соответствовала рисунку?



Известно, что все значения диапазона, по которым построена диаграмма, имеют один и тот же знак.

Ответ: _____.

23

Дан фрагмент электронной таблицы.

	A	B	C
1		$=(C1 - B2)*3$	4
2	$=C1 + B2$	$=A1 - 1$	$= B1$

Какое целое число должно быть записано в ячейке A1, чтобы построенная после выполнения вычислений диаграмма по значениям диапазона ячеек A2:C2 соответствовала рисунку?

Известно, что все значения диапазона, по которым построена диаграмма, имеют один и тот же знак.



Ответ: _____.

24

Дан фрагмент электронной таблицы.

	A	B	C
1	3	$=(C1 - A1)*3$	
2	$=C1 - B2$	$= C1 - A1$	$= B1$

Какое целое число должно быть записано в ячейке C1, чтобы построенная после выполнения вычислений диаграмма по значениям диапазона ячеек A2:C2 соответствовала рисунку?

Известно, что все значения диапазона, по которым построена диаграмма, имеют один и тот же знак.



Ответ: _____.

Ответы к заданиям раздела 3

№ задания	Ответ
1	1
2	4
3	1
4	4
5	3
6	4
7	2
8	3
9	3
10	4
11	1
12	3
13	2
14	2
15	3
16	2
17	4
18	1
19	3
20	2
21	2
22	4
23	3
24	4

РАЗДЕЛ 4

Алгоритмы и программирование

Вопросы для экзамена в устной форме

Базовый уровень экзамена

1. Условные и циклические управляющие конструкции в языках программирования. Их запись в изучавшемся языке программирования.
2. Переменные и выражения в языках программирования. Типы данных (числовые и не числовые). Описание переменных и запись выражений в изучавшемся языке программирования.
3. Разбиение задачи на подзадачи, вспомогательный алгоритм. Запись вспомогательных алгоритмов и обращений к ним в изучавшемся языке программирования.
4. Программа упорядочивания трёх введённых чисел в порядке возрастания.
5. Программа определения количества положительных элементов последовательности 25 целых чисел. Числа поочередно вводятся в программу пользователем.
6. Программа ввода трёх чисел и вывода их попарных сумм.
7. Программа вычисления суммы элементов последовательности 25 целых чисел. Числа поочередно вводятся в программу пользователем.
8. Программа определения значения наибольшего элемента последовательности 25 положительных целых чисел. Числа поочередно вводятся в программу пользователем.
9. Программа определения индекса первого положительного элемента последовательности 25 целых чисел. Числа поочередно вводятся в программу пользователем.
10. Программа вычисления суммы последовательности положительных чисел. Числа поочередно вводятся в программу, количество чисел заранее неизвестно, признак конца ввода – ноль.
11. Программа определения номера наибольшего элемента последовательности 25 целых чисел. Числа поочередно вводятся в программу пользователем. Если несколько элементов последовательности имеют наибольшее значение, вывести номер первого из них.

12. Составить программу, которая вводит с клавиатуры последовательность 25 положительных чисел и выводит на экран номер элемента последовательности, имеющего наименьшее значение (если таких элементов больше одного, требуется вывести номер первого из них). Нумерация элементов последовательности начинается с 1.

Профильный уровень экзамена

1. Рекурсивное задание последовательностей. Числа Фибоначчи.
2. Язык программирования. Типы данных. Основные конструкции языка программирования.
3. Найти и вывести на экран индекс первого положительного элемента массива. Если положительных элементов в массиве нет, вывести число 0.
4. Подсчитать и вывести на экран количество положительных элементов массива.
5. Подсчитать и вывести на экран сумму элементов массива.
6. Найти и вывести на экран индекс элемента массива, имеющего наименьшее значение (если таких элементов больше одного, требуется вывести индекс любого из них).
7. Подсчитать и вывести на экран количество элементов массива, больших предыдущего элемента.
8. Составить программу, которая поочередно вводит 10 положительных целых чисел и выводит наибольшую из их попарных сумм.
9. Составить программу, которая поочередно вводит 10 положительных целых чисел и выводит наибольшую из их попарных разностей.
10. Составить программу, которая вводит с клавиатуры последовательность положительных чисел и выводит на экран сумму элементов этой последовательности.
11. Составить программу ввода 7 целых чисел и вывода тех же чисел в порядке неубывания (второе выведенное число должно быть не меньше первого, а третье – не меньше второго).
12. Составить программу, в которой вводит с клавиатуры цифры двоичного разложения положительного числа, начиная со старших разрядов и выводит на экран десятичное разложение этого числа. (Например, после ввода четырёх двоичных цифр: 1, 1, 1, 0 – на экран должно быть выведено число 14.) Признаком окончания ввода последовательности двоичных цифр служит ввод числа 2.
13. Составить программу, в которой вводит с клавиатуры положительное целое число и выводит на экран цифры двоичного разложения этого

числа, начиная с младших разрядов. (Например, для числа 14 на экран должны быть выведены числа: 0, 1, 1, 1.)

14. Составить программу, которая вводит с клавиатуры последовательность положительных чисел и выводит на экран номер элемента последовательности, имеющего наименьшее значение (если таких элементов больше одного, требуется вывести номер первого из них). Нумерация элементов последовательности начинается с 1.
15. Составить фрагмент программы, в котором для массива А с числом элементов 30 подсчитывается и выводится на экран максимальное значение элементов массива, а затем каждый элемент массива А заменяется на это максимальное значение.

Задания для экзамена в письменной форме

Ответом к заданиям 1–12 является одна цифра или число. Ответ к заданиям 1–12 запишите в отведённом месте работы.

1

Автомат получает на вход два двузначных шестнадцатеричных числа. В этих числах все цифры не превосходят цифру 6 (если в числе есть цифра больше 6, автомат отказывается работать). По этим числам строится новое шестнадцатеричное число по следующим правилам.

1. Вычисляются два шестнадцатеричных числа: сумма старших разрядов полученных чисел и сумма младших разрядов этих чисел.
2. Полученные два шестнадцатеричных числа записываются друг за другом в порядке возрастания (без разделителей).

Пример. Исходные числа: 66, 43. Поразрядные суммы: А, 9. Результат: 9А.

Определите, какое из предложенных чисел может быть результатом работы автомата.

- 1) 2В
- 2) 75
- 3) СF
- 4) 811

Ответ:

2

На вход алгоритма подаётся двоичное число, в котором ровно 5 значащих разрядов.

Алгоритм преобразует его по следующим правилам.

1. В конец числа (справа) дописывается 1, если количество единиц в его записи нечётно. В противном случае, если количество единиц чётно, дописывается 0. Например, число 11100 преобразуется в число 111001.
2. Та же операция применяется к полученному 6-значному двоичному числу.
3. Полученное двоичное число переводится в десятичную систему счисления.

Укажите десятичное число, которое может быть результатом работы алгоритма.

Если таких чисел несколько, укажите большее из них.

- 1) 58
- 2) 121
- 3) 92
- 4) 158

Ответ:

3

Автомат получает на вход два двузначных шестнадцатеричных числа. В этих числах все цифры не превосходят цифру 6 (если в числе есть цифра больше 6, автомат отказывается работать). По этим числам строится новое шестнадцатеричное число по следующим правилам.

1. Вычисляются два шестнадцатеричных числа: сумма старших разрядов полученных чисел и сумма младших разрядов этих чисел.
2. Полученные два шестнадцатеричных числа записываются друг за другом в порядке возрастания (без разделителей).

Пример. Исходные числа: 66, 43. Поразрядные суммы: А, 9. Результат: 9А.

Определите, какое из предложенных чисел может быть результатом работы автомата.

- 1) 6А
- 2) 610
- 3) 54
- 4) ВЕ

Ответ:

4

Автомат получает на вход два двузначных шестнадцатеричных числа. В этих числах все цифры не превосходят цифру 6 (если в числе есть цифра больше 6, автомат отказывается работать). По этим числам строится новое шестнадцатеричное число по следующим правилам.

1. Вычисляются два шестнадцатеричных числа: сумма старших разрядов полученных чисел и сумма младших разрядов этих чисел.
2. Полученные два шестнадцатеричных числа записываются друг за другом в порядке неубывания (без разделителей).

Пример. Исходные числа: 66, 43. Поразрядные суммы: А, 9. Результат: 9А.

Определите, какое из предложенных чисел может быть результатом работы автомата.

- 1) 7В
- 2) 64
- 3) СЕ
- 4) 811

Ответ:

5

Автомат получает на вход два двузначных шестнадцатеричных числа. В этих числах все цифры не превосходят цифру 7 (если в числе есть цифра больше 7, автомат отказывается работать). По этим числам строится новое шестнадцатеричное число по следующим правилам.

1. Вычисляются два шестнадцатеричных числа: сумма старших разрядов полученных чисел и сумма младших разрядов этих чисел.
2. Полученные два шестнадцатеричных числа записываются друг за другом в порядке возрастания (без разделителей).

Пример. Исходные числа: 66, 43. Поразрядные суммы: А, 9. Результат: 9А.

Определите, какое из предложенных чисел может быть результатом работы автомата.

- 1) В8
- 2) 47
- 3) 2F
- 4) 311

Ответ:

6

Автомат получает на вход два двузначных шестнадцатеричных числа. В этих числах все цифры не превосходят цифру 7 (если в числе есть цифра больше 7, автомат отказывается работать). По этим числам строится новое шестнадцатеричное число по следующим правилам.

1. Вычисляются два шестнадцатеричных числа: сумма старших разрядов полученных чисел и сумма младших разрядов этих чисел.
2. Полученные два шестнадцатеричных числа записываются друг за другом в порядке возрастания (без разделителей).

Пример. Исходные числа: 66, 43. Поразрядные суммы: А, 9. Результат: 9А.

Определите, какое из предложенных чисел может быть результатом работы автомата.

- 1) 7F
- 2) B5
- 3) CE
- 4) 412

Ответ:

7

Система команд исполнителя РОБОТ, «живущего» в прямоугольном лабиринте на клетчатой плоскости, включает в себя 4 команды-приказа и 4 команды проверки условия.

Команды-приказы:

вверх	вниз	влево	вправо
-------	------	-------	--------

При выполнении любой из этих команд РОБОТ перемещается на одну клетку соответственно: вверх ↑, вниз ↓, влево ←, вправо →.

Если РОБОТ начнёт движение в сторону находящейся рядом с ним стены, то он разрушится, и программа прервётся.

Другие четыре команды проверяют истинность *условия* отсутствия стены у каждой стороны той клетки, где находится РОБОТ:

сверху свободно	снизу свободно	слева свободно	справа свободно
-----------------	----------------	----------------	-----------------

Цикл

ПОКА *< условие >*

последовательность команд

КОНЕЦ ПОКА

выполняется, пока условие истинно.

В конструкции

ЕСЛИ *< условие >*

ТО команда1

ИНАЧЕ команда2

КОНЕЦ ЕСЛИ

выполняется *команда1* (если условие истинно) или *команда2* (если условие ложно).

Сколько клеток лабиринта соответствуют требованию, что, начав движение в ней и выполнив предложенную программу, РОБОТ уцелеет и остановится в закрашенной клетке (клетка А6)?

НАЧАЛО

ПОКА **< снизу свободно ИЛИ слева свободно >**

ЕСЛИ < снизу свободно >

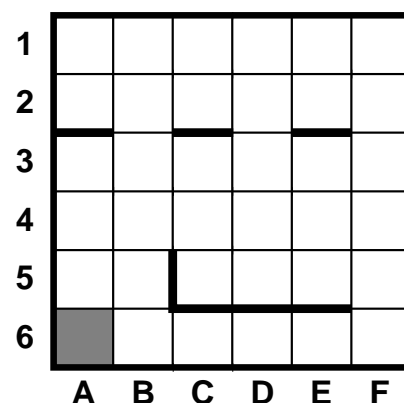
ТО вниз

ИНАЧЕ влево

КОНЕЦ ЕСЛИ

КОНЕЦ ПОКА

КОНЕЦ



1) 8

2) 12

3) 17

4) 21

Ответ:

8

Система команд исполнителя РОБОТ, «живущего» в прямоугольном лабиринте на клетчатой плоскости, включает в себя 4 команды-приказа и 4 команды проверки условия.

Команды-приказы:

вверх	вниз	влево	вправо
-------	------	-------	--------

При выполнении любой из этих команд РОБОТ перемещается на одну клетку соответственно: вверх ↑, вниз ↓, влево ←, вправо →.

Если РОБОТ начнёт движение в сторону находящейся рядом с ним стены, то он разрушится, и программа прервётся.

Другие четыре команды проверяют истинность *условия* отсутствия стены у каждой стороны той клетки, где находится РОБОТ:

сверху свободно	снизу свободно	слева свободно	справа свободно
-----------------	----------------	----------------	-----------------

Цикл

ПОКА *< условие >*
последовательность команд
 КОНЕЦ ПОКА

выполняется, пока условие истинно.

В конструкции

ЕСЛИ *< условие >*
 ТО *команда1*
 ИНАЧЕ *команда2*
 КОНЕЦ ЕСЛИ

выполняется *команда1* (если условие истинно) или *команда2* (если условие ложно).


Сколько клеток лабиринта соответствуют требованию, что, начав движение в ней и выполнив предложенную программу, РОБОТ уцелеет и остановится в закрашенной клетке (клетка А6)?

НАЧАЛО

ПОКА **< снизу свободно ИЛИ слева свободно >**
 ЕСЛИ **< снизу свободно >**
 ТО **вниз**
 ИНАЧЕ **влево**
 КОНЕЦ ЕСЛИ

КОНЕЦ ПОКА

КОНЕЦ



1) 12

2) 20

3) 24

4) 30

Ответ:

9

Исполнитель Чертёжник перемещается на координатной плоскости, оставляя след в виде линии. Чертёжник может выполнять команду **сместиться на (a, b)** , где a, b – целые числа. Эта команда перемещает Чертёжника из точки с координатами (x, y) в точку с координатами $(x + a; y + b)$.

*Например, если Чертёжник находится в точке с координатами $(4, 2)$, то команда **сместиться на $(2, -3)$** переместит Чертёжника в точку $(6, -1)$.*

Цикл

```
ПОВТОРИ число РАЗ
    последовательность команд
КОНЕЦ ПОВТОРИ
```

означает, что *последовательность команд* будет выполнена указанное *число раз* (число должно быть натуральным).

Чертёжнику был дан для исполнения следующий алгоритм (буквами n, a, b обозначены неизвестные числа):

НАЧАЛО

```
    сместиться на  $(1, 2)$ 
    ПОВТОРИ  $n$  РАЗ
        сместиться на  $(a, b)$ 
        сместиться на  $(26, 12)$ 
    КОНЕЦ ПОВТОРИ
    сместиться на  $(-26, -12)$ 
```

КОНЕЦ

После выполнения этого алгоритма Чертёжник возвратился в исходную точку. Какое из приведённых ниже чисел обозначено буквой n ?

- 1) 5
- 2) 2
- 3) 3
- 4) 4

Ответ:

10

Система команд исполнителя РОБОТ, «живущего» в прямоугольном лабиринте на клетчатой плоскости, включает в себя 4 команды-приказа и 4 команды проверки условия.

Команды-приказы:

вверх	вниз	влево	вправо
-------	------	-------	--------

При выполнении любой из этих команд РОБОТ перемещается на одну клетку соответственно: вверх ↑, вниз ↓, влево ←, вправо →.

Если РОБОТ начнёт движение в сторону находящейся рядом с ним стены, то он разрушится, и программа прервётся.

Другие четыре команды проверяют истинность *условия* отсутствия стены у каждой стороны той клетки, где находится РОБОТ:

сверху свободно	снизу свободно	слева свободно	справа свободно
-----------------	----------------	----------------	-----------------

Цикл

```
ПОКА < условие >
    последовательность команд
КОНЕЦ ПОКА
```

выполняется, пока условие истинно.

В конструкции

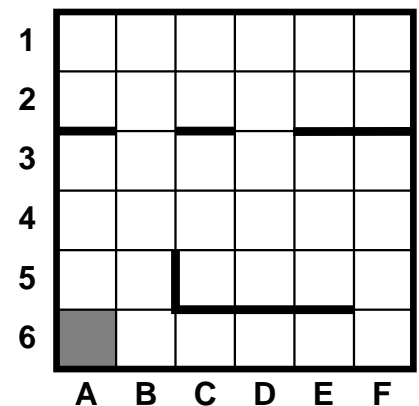
```
ЕСЛИ < условие >
    ТО команда1
    ИНАЧЕ команда2
КОНЕЦ ЕСЛИ
```

выполняется *команда1* (если условие истинно) или *команда2* (если условие ложно).

Сколько клеток лабиринта соответствуют требованию, что, начав движение в ней и выполнив предложенную программу, РОБОТ уцелеет и остановится в закрашенной клетке (клетка А6)?

НАЧАЛО

```
ПОКА < снизу свободно ИЛИ слева свободно >
    ЕСЛИ < снизу свободно >
        ТО вниз
        ИНАЧЕ влево
    КОНЕЦ ЕСЛИ
КОНЕЦ ПОКА
КОНЕЦ
```



1) 10

2) 17

3) 19

4) 20

Ответ:

11

Исполнитель Чертёжник умеет выполнять следующие команды:

поднять перо,
опустить перо,
сместиться в точку (x, y) – переместиться с поднятым или опущенным пером из текущей точки на листе в заданную.

Изначально текущей считается точка с координатами (0, 0) совпадающая с центром прямоугольного листа бумаги. Координатные оси направлены вдоль краёв листа. Масштаб единиц по обеим осям одинаковый. После выполнения команды текущей считается новая позиция пера. Алгоритмы для Чертёжника записываются на алгоритмическом языке.

Для Чертёжника задан алгоритм:

```

алг фигура
нач
  вещ A, L, S
  цел N, I
  A := 0
  L := 0.1
  N := 100
  S := 10*3.14/N
  поднять перо
  сместиться в точку(0, 0)
  опустить перо
  нц для I от 1 до N
    A := A+S
    L := L+0.1
    сместиться в точку(L*cos (A), L*sin(A))
  кц
кон

```

Указанный алгоритм наиболее подходит для приближённого изображения

- 1) эллипса
- 2) окружности
- 3) фрагмента синусоиды
- 4) спирали

Ответ:

12

Исполнитель Чертёжник умеет выполнять следующие команды:

поднять перо,

опустить перо,

сместиться в точку (x, y) – переместиться с поднятым или опущенным пером из текущей точки на листе в заданную.

Изначально текущей считается точка с координатами $(0, 0)$, совпадающая с центром прямоугольного листа бумаги. Координатные оси направлены вдоль краёв листа. Масштаб единиц по обеим осям одинаковый. После выполнения команды текущей считается новая позиция пера. Алгоритмы для Чертёжника записываются на алгоритмическом языке.

Для Чертёжника задан алгоритм:

алг фигура

нач

вещ A, L, S

цел N, I

$A := 0$

$L := 1$

$N := 100$

$S := 2 * 3.14 / N$

поднять перо

сместиться в точку $(0, 0)$

опустить перо

нц для I от 1 до N

$A := A + S$

сместиться в точку $(A, L * \sin(A))$

кц

кон

Указанный алгоритм наиболее подходит для приближённого изображения

- 1) эллипса
- 2) дуги окружности
- 3) фрагмента синусоиды
- 4) спирали

Ответ:

Ответами к заданиям 13–24 являются число, последовательность букв или цифр. Впишите ответы в текст экзаменационной работы.

13 У исполнителя Калькулятор две команды, которым присвоены номера:

1. вычти 3,

2. умножь на 2.

Выполняя первую из них, Калькулятор вычитает из числа на экране 3, а выполняя вторую, удваивает его.

Например, 21211 – это программа:

умножь на 2

вычти 3

умножь на 2

вычти 3

вычти 3,

которая преобразует число 7 в число 16.

Запишите порядок команд в программе преобразования **числа 5 в число 25**, содержащей не более 5 команд, указывая лишь номера команд. Если таких программ более одной, то запишите любую из них.

Ответ: _____.

14 У исполнителя Удвоитель две команды, которым присвоены номера:

1. прибавь 1,

2. умножь на 2.

Первая из них увеличивает число на экране на 1, вторая удваивает его.

Например, 2121 – это программа

умножь на 2

прибавь 1

умножь на 2

прибавь 1,

которая преобразует число 1 в число 7.

Запишите порядок команд в программе преобразования **числа 3 в число 63**, содержащей не более 8 команд, указывая лишь номера команд. Если таких программ более одной, то запишите любую из них.

Ответ: _____.

15

У исполнителя Утроитель две команды, которым присвоены номера:

- 1. прибавь 1,**
- 2. умножь на 3.**

Первая из них увеличивает число на экране на 1, вторая утраивает его.

Например, 21211 – это программа

умножь на 3

прибавь 1

умножь на 3

прибавь 1

прибавь 1,

которая преобразует число 1 в число 14.

Запишите порядок команд в программе преобразования **числа 1 в число 24**, содержащей не более 5 команд, указывая лишь номера команд. Если таких программ более одной, то запишите любую из них.

Ответ: _____.

16

У исполнителя Калькулятор две команды, которым присвоены номера:

- 1. вычти 3,**
- 2. умножь на 2.**

Выполняя первую из них, Калькулятор вычитает из числа на экране 3, а выполняя вторую, удваивает его.

Например, 21211 – это программа:

умножь на 2

вычти 3

умножь на 2

вычти 3

вычти 3,

которая преобразует число 7 в число 16.

Запишите порядок команд в программе преобразования **числа 6 в число 39**, содержащей не более 5 команд, указывая лишь номера команд. Если таких программ более одной, то запишите любую из них.

Ответ: _____.

17

У исполнителя Калькулятор две команды, которым присвоены номера:

1. **вычти 3,**
2. **умножь на 2.**

Выполняя первую из них, Калькулятор вычитает из числа на экране 3, а выполняя вторую, удваивает его.

Например, 21211 – это программа:

умножь на 2

вычти 3

умножь на 2

вычти 3

вычти 3,

которая преобразует число 7 в число 16.

Запишите порядок команд в программе преобразования **числа 5 в число 16**, содержащей не более пяти команд, указывая лишь номера команд. Если таких программ более одной, то запишите любую из них.

Ответ: _____.

18

У исполнителя Калькулятор две команды, которым присвоены номера:

1. **вычти 3,**
2. **умножь на 2.**

Выполняя первую из них, Калькулятор вычитает из числа на экране 3, а выполняя вторую, удваивает его.

Например, 21211 – это программа:

умножь на 2

вычти 3

умножь на 2

вычти 3

вычти 3,

которая преобразует число 7 в число 16.

Запишите порядок команд в программе преобразования **числа 5 в число 31**, содержащей не более пяти команд, указывая лишь номера команд. Если таких программ более одной, то запишите любую из них.

Ответ: _____.

19

Определите число, которое будет напечатано в результате выполнения программы. Для Вашего удобства программа представлена на четырёх языках программирования.

Бейсик	Паскаль
<pre> DIM N, S AS INTEGER N = 0 S = 0 WHILE S <= 39 S = S + 5 N = N + 1 WEND PRINT N </pre>	<pre> var n, s: integer; begin n := 0; s := 0; while s <= 39 do begin s := s + 5; n := n + 1 end; write(n) end. </pre>
Си	Алгоритмический язык
<pre> #include<stdio.h> void main() { int n, s; n = 0; s = 0; while (s <= 39) { s = s + 5; n = n + 1; } printf("%d", n); } </pre>	<pre> алг нач цел n, s n := 0 s := 0 нц пока s <= 39 s := s + 5 n := n + 1 кц вывод n кон </pre>

Ответ: _____.

20

Определите число, которое будет напечатано в результате выполнения программы. Для Вашего удобства программа представлена на четырёх языках программирования.

Бейсик	Паскаль
<pre> DIM N, S AS INTEGER N = 5 S = 0 WHILE N <= 8 S = S + N N = N + 1 WEND PRINT S </pre>	<pre> var n, s: integer; begin n := 5; s := 0; while n <= 8 do begin s := s + n; n := n + 1 end; write(s) end. </pre>
Си	Алгоритмический язык
<pre> #include<stdio.h> void main() { int n, s; n = 5; s = 0; while (n <= 8) { s = s + n; n = n + 1; } printf("%d", s); } </pre>	<pre> <u>алг</u> <u>нач</u> <u>цел</u> n, s n := 5 s := 0 <u>нц пока</u> n <= 8 s := s + n n := n + 1 <u>кц</u> <u>вывод</u> s <u>кон</u> </pre>

Ответ: _____.

21

Определите число, которое будет напечатано в результате выполнения программы. Для Вашего удобства программа представлена на четырёх языках программирования.

Бейсик	Паскаль
<pre> DIM S, N AS INTEGER S = 18 N = 256 WHILE S > 0 S = S - 4 N = N \ 2 WEND PRINT (N) </pre>	<pre> var s, n: integer; begin s := 18; n := 256; while s > 0 do begin s := s - 4; n := n div 2 end; writeln(n) end. </pre>
Си	Алгоритмический язык
<pre> #include<stdio.h> void main() { int s, n; s = 18; n = 256; while (s > 0) { s = s - 4; n = n / 2; } printf("%d\n", n); } </pre>	<pre> <u>алг</u> <u>нач</u> <u>цел</u> s, n s := 18 n := 256 <u>нц пока</u> s > 0 s := s - 4 n := div(n, 2) <u>кц</u> <u>вывод</u> n <u>кон</u> </pre>

Ответ: _____.

22

Определите число, которое будет напечатано в результате выполнения программы. Для Вашего удобства программа представлена на пяти языках программирования.

Бейсик	Паскаль
<pre>DIM N, S AS INTEGER N = 0 S = 0 WHILE S <= 49 S = S + 5 N = N + 1 WEND PRINT N</pre>	<pre>var n, s: integer; begin n := 0; s := 0; while s <= 49 do begin s := s + 5; n := n + 1 end; write(n) end.</pre>
Си	Алгоритмический язык
<pre>#include<stdio.h> void main() { int n, s; n = 0; s = 0; while (s <= 49) { s = s + 5; n = n + 1; } printf("%d", n); }</pre>	<pre><u>алг</u> <u>нач</u> <u>цел</u> n, s n := 0 s := 0 <u>нц пока</u> s <= 49 s := s + 5 n := n + 1 <u>кц</u> <u>вывод</u> n <u>кон</u></pre>
Python	
<pre>n = 0 s = 0 while s <= 49: s = s + 5 n = n + 1 print(n)</pre>	

Ответ: _____.

23

Запишите число, которое будет напечатано в результате выполнения следующей программы. Для Вашего удобства программа представлена на пяти языках программирования.

Бейсик	Python
<pre>DIM S, N AS INTEGER S = 230 N = 0 WHILE S > 0 S = S - 15 N = N + 2 WEND PRINT N</pre>	<pre>s = 230 n = 0 while s > 0: s = s - 15 n = n + 2 print(n)</pre>
Алгоритмический язык	Паскаль
<pre><u>алг</u> <u>нач</u> <u>цел</u> n, s s := 230 n := 0 <u>нц пока</u> s > 0 s := s - 15 n := n + 2 <u>кц</u> <u>вывод</u> n <u>кон</u></pre>	<pre>var s, n: integer; begin s := 230; n := 0; while s > 0 do begin s := s - 15; n := n + 2; end; writeln(n) end.</pre>
Си	
<pre>#include<stdio.h> int main() { int s = 230, n = 0; while (s > 0) { s = s - 15; n = n + 2; } printf("%d\n", n); return 0; }</pre>	

Ответ: _____.

24

Запишите число, которое будет напечатано в результате выполнения следующей программы. Для Вашего удобства программа представлена на пяти языках программирования.

Бейсик	Python
<pre>DIM S, N AS INTEGER S = 305 N = 0 WHILE S > 0 S = S - 20 N = N + 2 WEND PRINT N</pre>	<pre>s = 305 n = 0 while s > 0: s = s - 20 n = n + 2 print(n)</pre>
Алгоритмический язык	Паскаль
<pre><u>алг</u> <u>нач</u> <u>цел</u> n, s s := 305 n := 0 <u>нц пока</u> s > 0 s := s - 20 n := n + 2 <u>кц</u> <u>вывод</u> n <u>кон</u></pre>	<pre>var s, n: integer; begin s := 305; n := 0; while s > 0 do begin s := s - 20; n := n + 2; end; writeln(n) end.</pre>
Си	
<pre>#include<stdio.h> int main() { int s = 305, n = 0; while (s > 0) { s = s - 20; n = n + 2; } printf("%d\n", n); return 0; }</pre>	

Ответ: _____.

Для записи ответа на задания 25–30 используйте отдельный лист бумаги. Запишите сначала номер задания, а затем полное решение. Ответ запишите чётко и разборчиво.

25

Дан целочисленный массив из 20 элементов. Элементы массива могут принимать целые значения от $-10\,000$ до $10\,000$ включительно. Опишите на естественном языке или на одном из языков программирования алгоритм, позволяющий найти и вывести количество пар элементов массива, в которых оба числа делятся на 3. В данной задаче под парой подразумевается два подряд идущих элемента массива.

Например, для массива из пяти элементов: 6; 2; 9; -3 ; 6 – ответ: 2.

Исходные данные объявлены так, как показано ниже на примерах для некоторых языков программирования и естественного языка. Запрещается использовать переменные, не описанные ниже, но разрешается не использовать некоторые из описанных переменных.

Бейсик	Python
<pre>CONST N AS INTEGER = 20 DIM A (1 TO N) AS INTEGER DIM I AS INTEGER, J AS INTEGER, K AS INTEGER FOR I = 1 TO N INPUT A(I) NEXT I ... END</pre>	<pre># допускается также # использовать две # целочисленные переменные j и k a = [] n = 20 for i in range(0, n): a.append(int(input())) ... </pre>
Алгоритмический язык	Паскаль
<pre><u>алг</u> <u>нач</u> цел N = 20 целтаб a[1:N] цел i, j, k нц для i от 1 до N ввод a[i] кц ... <u>кон</u></pre>	<pre>const N = 20; var a: array [1..N] of integer; i, j, k: integer; begin for i := 1 to N do readln(a[i]); ... end.</pre>

Си	Естественный язык
<pre>#include <stdio.h> #define N 20 int main() { int a[N]; int i, j, k; for (i = 0; i<N; i++) scanf("%d", &a[i]); ... return 0; }</pre>	<p>Объявляем массив A из 20 элементов. Объявляем целочисленные переменные I, J, K. В цикле от 1 до 20 вводим элементы массива A с 1-го по 20-й. ...</p>

В качестве ответа Вам необходимо привести фрагмент программы (или описание алгоритма на естественном языке), который должен находиться на месте многоточия. Вы можете записать решение также на другом языке программирования (укажите название и используемую версию языка программирования, например Free Pascal 2.6) или в виде блок-схемы. В этом случае Вы должны использовать те же самые исходные данные и переменные, какие были предложены в условии (например, в образце, записанном на естественном языке).

26

Дан целочисленный массив из 20 элементов. Элементы массива могут принимать целые значения от $-10\,000$ до $10\,000$ включительно. Опишите на естественном языке или на одном из языков программирования алгоритм, позволяющий найти и вывести количество пар элементов массива, в которых оба числа делятся на 7. В данной задаче под парой подразумевается два подряд идущих элемента массива.

Например, для массива из пяти элементов: 6; 2; 7; -7 ; 14 – ответ: 2.

Исходные данные объявлены так, как показано ниже на примерах для некоторых языков программирования и естественного языка. Запрещается использовать переменные, не описанные ниже, но разрешается не использовать некоторые из описанных переменных.

Бейсик	Python
<pre>CONST N AS INTEGER = 20 DIM A (1 TO N) AS INTEGER DIM I AS INTEGER, J AS INTEGER, K AS INTEGER FOR I = 1 TO N INPUT A(I) NEXT I ... END</pre>	<pre># допускается также # использовать две # целочисленные переменные j и k a = [] n = 20 for i in range(0, n): a.append(int(input())) ... </pre>

Алгоритмический язык	Паскаль
<pre> алг нач цел N = 20 целтаб a[1:N] цел i, j, k нц для i от 1 до N ввод a[i] кц ... кон </pre>	<pre> const N = 20; var a: array [1..N] of integer; i, j, k: integer; begin for i := 1 to N do readln(a[i]); ... end. </pre>
Си	Естественный язык
<pre> #include <stdio.h> #define N 20 int main() { int a[N]; int i, j, k; for (i = 0; i<N; i++) scanf("%d", &a[i]); ... return 0; } </pre>	<p>Объявляем массив <i>A</i> из 20 элементов. Объявляем целочисленные переменные <i>I, J, K</i>. В цикле от 1 до 20 вводим элементы массива <i>A</i> с 1-го по 20-й. ...</p>

В качестве ответа Вам необходимо привести фрагмент программы (или описание алгоритма на естественном языке), который должен находиться на месте многоточия. Вы можете записать решение также на другом языке программирования (укажите название и используемую версию языка программирования, например Free Pascal 2.6) или в виде блок-схемы. В этом случае Вы должны использовать те же самые исходные данные и переменные, какие были предложены в условии (например, в образце, записанном на естественном языке).

27

Дан целочисленный массив из 20 элементов. Элементы массива могут принимать целые значения от $-10\,000$ до $10\,000$ включительно. Опишите на естественном языке или на одном из языков программирования алгоритм, позволяющий найти и вывести количество пар элементов массива, произведение которых нечётно, а сумма отрицательна. Под парой подразумевается два подряд идущих элемента массива.

Исходные данные объявлены так, как показано ниже на примерах для некоторых языков программирования и естественного языка. Запрещается использовать переменные, не описанные ниже, но разрешается не использовать некоторые из описанных переменных.

Бейсик	Паскаль
<pre>N = 20 DIM A(N) AS LONG DIM I, J, K AS LONG FOR I = 1 TO N INPUT A(I) NEXT I ... END</pre>	<pre>const N = 20; var a: array [1..N] of longint; i, j, k: longint; begin for i := 1 to N do readln(a[i]); ... end.</pre>
Си	Алгоритмический язык
<pre>#include <stdio.h> #define N 20 void main() { long a[N]; long i, j, k; for (i = 0; i < N; i++) scanf("%ld", &a[i]); ... }</pre>	<pre><u>алг</u> <u>нач</u> <u>цел</u> N = 20 <u>цел таб</u> a[1:N] <u>цел</u> i, j, k <u>нц для</u> i <u>от</u> 1 <u>до</u> N <u>ввод</u> a[i] <u>кц</u> ... <u>кон</u></pre>
Естественный язык	
<p>Объявляем массив A из 20 элементов. Объявляем целочисленные переменные I, J, K. В цикле от 1 до 20 вводим элементы массива A с 1-го по 20-й. ...</p>	

В качестве ответа Вам необходимо привести фрагмент программы (или описание алгоритма на естественном языке), который должен находиться на месте многоточия. Вы можете записать решение также на другом языке программирования (укажите название и используемую версию языка программирования, например Free Pascal 2.6) или в виде блок-схемы. В этом случае Вы должны использовать те же самые исходные данные и переменные, какие были предложены в условии (например, в образце, записанном на естественном языке).

28

Дан целочисленный массив из 50 элементов. Элементы массива могут принимать целые значения от 0 до 10 000 включительно. Опишите на естественном языке или на одном из языков программирования алгоритм, позволяющий найти и вывести количество пар элементов массива, в которых оба числа однозначные. В данной задаче под парой подразумевается два подряд идущих элемента массива.

Например, для массива из пяти элементов: 16; 2; 3; 91; 7 – ответ: 1.

Исходные данные объявлены так, как показано ниже на примерах для некоторых языков программирования и естественного языка. Запрещается использовать переменные, не описанные ниже, но разрешается не использовать некоторые из описанных переменных.

Бейсик	Паскаль
<pre>CONST N AS INTEGER = 50 DIM A (1 TO N) AS INTEGER DIM I AS INTEGER, J AS INTEGER, K AS INTEGER FOR I = 1 TO N INPUT A(I) NEXT I ... END</pre>	<pre>const N = 50; var a: array [1..N] of integer; i, j, k: integer; begin for i := 1 to N do readln(a[i]); ... end.</pre>
Си	Алгоритмический язык
<pre>#include <stdio.h> #define N 50 int main() { int a[N]; int i, j, k; for (i = 0; i<N; i++) scanf("%d", &a[i]); ... return 0; }</pre>	<pre><u>алг</u> <u>нач</u> <u>цел</u> N = 50 <u>целтаб</u> a[1:N] <u>цел</u> i, j, k <u>нц</u> <u>для</u> i <u>от</u> 1 <u>до</u> N <u>ввод</u> a[i] <u>кц</u> ... <u>кон</u></pre>

Python	Естественный язык
<pre>//допускается также использовать //две целочисленные переменные j и k a = [] n = 50 for i in range(0, n): a.append(int(input()))</pre>	<p>Объявляем массив A из 50 элементов. Объявляем целочисленные переменные I, J, K. В цикле от 1 до 50 вводим элементы массива A с 1-го по 50-й. ...</p>

В качестве ответа Вам необходимо привести фрагмент программы (или описание алгоритма на естественном языке), который должен находиться на месте многоточия. Вы можете записать решение также на другом языке программирования (укажите название и используемую версию языка программирования, например, Free Pascal 2.6) или в виде блок-схемы. В этом случае Вы должны использовать те же самые исходные данные и переменные, какие были предложены в условии (например, в образце, записанном на естественном языке).

29

Дан целочисленный массив из 20 элементов. Элементы массива могут принимать целые значения от $-10\,000$ до $10\,000$ включительно. Опишите на естественном языке или на одном из языков программирования алгоритм, позволяющий найти и вывести количество пар элементов массива, в которых оба числа делятся на 5. В данной задаче под парой подразумевается два идущих подряд элемента массива.

Например, для массива из пяти элементов: 6; 2; 5; -5 ; 10 – ответ: 2.

Исходные данные объявлены так, как показано ниже на примерах для пяти языков программирования и естественного языка. Запрещается использовать переменные, не описанные ниже, но разрешается не использовать некоторые из описанных переменных.

Бейсик	Python
<pre>CONST N AS INTEGER = 20 DIM A (1 TO N) AS INTEGER DIM I AS INTEGER, J AS INTEGER, K AS INTEGER FOR I = 1 TO N INPUT A(I) NEXT I ... END</pre>	<pre># допускается также # использовать две # целочисленные переменные j и k a = [] n = 20 for i in range(0, n): a.append(int(input())) ... </pre>
Алгоритмический язык	Паскаль
<pre><u>алг</u> <u>нач</u> <u>цел</u> N = 20 <u>целтаб</u> a[1:N] <u>цел</u> i, j, k <u>нц</u> <u>для</u> i <u>от</u> 1 <u>до</u> N <u>ввод</u> a[i] <u>кц</u> ... <u>кон</u></pre>	<pre>const N = 20; var a: array [1..N] of integer; i, j, k: integer; begin for i := 1 to N do readln(a[i]); ... end.</pre>

Си	Естественный язык
<pre>#include <stdio.h> #define N 20 int main() { int a[N]; int i, j, k; for (i = 0; i<N; i++) scanf("%d", &a[i]); ... return 0; }</pre>	<p>Объявляем массив A из 20 элементов. Объявляем целочисленные переменные I, J, K. В цикле от 1 до 20 вводим элементы массива A с 1-го по 20-й. ...</p>

В качестве ответа Вам необходимо привести фрагмент программы (или описание алгоритма на естественном языке), который должен находиться на месте многоточия. Вы можете записать решение также на другом языке программирования (укажите название и используемую версию языка программирования, например Free Pascal 2.6) или в виде блок-схемы. В этом случае Вы должны использовать те же самые исходные данные и переменные, какие были предложены в условии (например, в образце, записанном на естественном языке).

30

Дан целочисленный массив из 20 элементов. Элементы массива могут принимать целые значения от $-10\,000$ до $10\,000$ включительно. Опишите на естественном языке или на одном из языков программирования алгоритм, позволяющий найти и вывести количество пар элементов массива, в которых оба числа делятся на 7. В данной задаче под парой подразумевается два идущих подряд элемента массива.

Например, для массива из пяти элементов: 6; 2; 7; -7; 14 – ответ: 2.

Исходные данные объявлены так, как показано ниже на примерах для пяти языков программирования и естественного языка. Запрещается использовать переменные, не описанные ниже, но разрешается не использовать некоторые из описанных переменных.

Бейсик	Python
<pre>CONST N AS INTEGER = 20 DIM A (1 TO N) AS INTEGER DIM I AS INTEGER, J AS INTEGER, K AS INTEGER FOR I = 1 TO N INPUT A(I) NEXT I ... END</pre>	<pre># допускается также # использовать две # целочисленные переменные j и k a = [] n = 20 for i in range(0, n): a.append(int(input())) ... </pre>
Алгоритмический язык	Паскаль
<pre><u>алг</u> <u>нач</u> <u>цел</u> N = 20 <u>целтаб</u> a[1:N] <u>цел</u> i, j, k <u>нц</u> <u>для</u> i <u>от</u> 1 <u>до</u> N <u>ввод</u> a[i] <u>кц</u> ... <u>кон</u></pre>	<pre>const N = 20; var a: array [1..N] of integer; i, j, k: integer; begin for i := 1 to N do readln(a[i]); ... end.</pre>

Си	Естественный язык
<pre>#include <stdio.h> #define N 20 int main() { int a[N]; int i, j, k; for (i = 0; i<N; i++) scanf("%d", &a[i]); ... return 0; }</pre>	<p>Объявляем массив A из 20 элементов. Объявляем целочисленные переменные I, J, K. В цикле от 1 до 20 вводим элементы массива A с 1-го по 20-й. ...</p>

В качестве ответа Вам необходимо привести фрагмент программы (или описание алгоритма на естественном языке), который должен находиться на месте многоточия. Вы можете записать решение также на другом языке программирования (укажите название и используемую версию языка программирования, например Free Pascal 2.6) или в виде блок-схемы. В этом случае Вы должны использовать те же самые исходные данные и переменные, какие были предложены в условии (например, в образце, записанном на естественном языке).

Ответы к заданиям раздела 4

№ задания	Ответ
1	1
2	3
3	1
4	1
5	2
6	3
7	4
8	3
9	1
10	3
11	4
12	3
13	21221
14	21212121
15	12112
16	22121
17	21122
18	22121
19	8
20	26
21	8
22	10
23	32
24	32

Критерии оценивания заданий с развёрнутым ответом**25**

Дан целочисленный массив из 20 элементов. Элементы массива могут принимать целые значения от $-10\,000$ до $10\,000$ включительно. Опишите на естественном языке или на одном из языков программирования алгоритм, позволяющий найти и вывести количество пар элементов массива, в которых оба числа делятся на 3. В данной задаче под парой подразумевается два подряд идущих элемента массива.

Например, для массива из пяти элементов: 6; 2; 9; -3; 6 – ответ: 2.

Исходные данные объявлены так, как показано ниже на примерах для некоторых языков программирования и естественного языка. Запрещается использовать переменные, не описанные ниже, но разрешается не использовать некоторые из описанных переменных.

Бейсик	Python
<pre>CONST N AS INTEGER = 20 DIM A (1 TO N) AS INTEGER DIM I AS INTEGER, J AS INTEGER, K AS INTEGER FOR I = 1 TO N INPUT A(I) NEXT I ... END</pre>	<pre># допускается также # использовать две # целочисленные переменные j и k a = [] n = 20 for i in range(0, n): a.append(int(input())) ... </pre>
Алгоритмический язык	Паскаль
<pre><u>алг</u> <u>нач</u> <u>цел</u> N = 20 <u>целтаб</u> a[1:N] <u>цел</u> i, j, k <u>нц</u> <u>для</u> i <u>от</u> 1 <u>до</u> N <u>ввод</u> a[i] <u>кц</u> ... <u>кон</u></pre>	<pre>const N = 20; var a: array [1..N] of integer; i, j, k: integer; begin for i := 1 to N do readln(a[i]); ... end.</pre>

Си	Естественный язык
<pre>#include <stdio.h> #define N 20 int main() { int a[N]; int i, j, k; for (i = 0; i<N; i++) scanf("%d", &a[i]); ... return 0; }</pre>	<p>Объявляем массив A из 20 элементов. Объявляем целочисленные переменные I, J, K. В цикле от 1 до 20 вводим элементы массива A с 1-го по 20-й. ...</p>

В качестве ответа Вам необходимо привести фрагмент программы (или описание алгоритма на естественном языке), который должен находиться на месте многоточия. Вы можете записать решение также на другом языке программирования (укажите название и используемую версию языка программирования, например Free Pascal 2.6) или в виде блок-схемы. В этом случае Вы должны использовать те же самые исходные данные и переменные, какие были предложены в условии (например, в образце, записанном на естественном языке).

Содержание верного ответа и указания по оцениванию (допускаются иные формулировки решений, приводящие к правильному результату)
На языке Паскаль
<pre>k := 0; for i := 1 to N-1 do if (a[i] mod 3=0) and (a[i+1] mod 3=0) then inc(k); writeln(k);</pre>
На алгоритмическом языке
<pre>k := 0; нц для i от 1 до N-1 если mod(a[i], 3)=0 и mod(a[i+1], 3)=0 то k := k+1 все кц вывод k</pre>
На языке Бейсик
<pre>K = 0 FOR I = 1 TO N-1 IF (A(I) MOD 3 = 0) AND (A(I + 1) MOD 3 = 0) THEN K = K+1 END IF NEXT I PRINT K</pre>

На языке Си	
<pre>k = 0; for (i = 0; i<N-1; i++) if (a[i]%3 == 0 && a[i+1]%3 == 0) k++; printf("%d", k);</pre>	
На языке Python	
<pre>k = 0 for i in range(0, n - 1): if (a[i] % 3 == 0 and a[i + 1] % 3 == 0): k += 1 print(k)</pre>	
На естественном языке	
<p>Записываем в переменную K начальное значение, равное 0. В цикле от первого элемента до предпоследнего находим остаток от деления текущего и следующего элемента массива на 3. Если оба остатка равны 0, увеличиваем переменную K на единицу.</p> <p>После завершения цикла выводим значение переменной K</p>	
Указания по оцениванию	Баллы
<p><i>Общие указания.</i></p> <ol style="list-style-type: none"> 1. В алгоритме, записанном на языке программирования, допускается наличие отдельных синтаксических ошибок, не искажающих замысла автора программы. 2. Эффективность алгоритма не имеет значения и не оценивается. 3. Допускается запись алгоритма на языке программирования, отличном от языков, приведённых в условии. В этом случае должны использоваться переменные, аналогичные описанным в условии. Если язык программирования использует типизированные переменные, описания переменных должны быть аналогичны описаниям переменных на естественном языке. Использование нетипизированных или необъявленных переменных возможно только в случае, если это допускается языком программирования; при этом количество переменных и их идентификаторы должны соответствовать условию задачи 	

Предложен правильный алгоритм, выдающий в качестве результата верное значение	2
<p>Не выполнены условия, позволяющие поставить 2 балла. Предложено в целом верное решение, содержащее не более одной ошибки из числа следующих:</p> <ol style="list-style-type: none"> 1) в цикле происходит выход за границу массива (например, используется цикл от 1 до N); 2) не инициализируется или неверно инициализируется счётчик количества найденных пар; 3) счётчик количества пар в цикле не изменяется или изменяется неверно; 4) неверно проверяется делимость на 3; 5) на делимость проверяются не сами элементы, а их индексы; 6) при проверке выполнения условия для пары элементов используются неверные индексы; 7) в сложном логическом условии простые проверки верны, но условие в целом построено неверно (например, перепутаны операции «И» и «ИЛИ», неверно расставлены скобки в логическом выражении); 8) отсутствует вывод ответа; 9) используется переменная, не объявленная в разделе описания переменных; 10) не указано или неверно указано условие завершения цикла; 11) индексная переменная в цикле не меняется (например, в цикле <code>while</code>) или меняется неверно; 12) неверно расставлены операторные скобки 	1
Ошибок, перечисленных в п. 1–12, две или больше, или алгоритм сформулирован неверно (в том числе при отсутствии цикла в явном или неявном виде)	0
<i>Максимальный балл</i>	2

26

Дан целочисленный массив из 20 элементов. Элементы массива могут принимать целые значения от $-10\,000$ до $10\,000$ включительно. Опишите на естественном языке или на одном из языков программирования алгоритм, позволяющий найти и вывести количество пар элементов массива, в которых оба числа делятся на 7. В данной задаче под парой подразумевается два подряд идущих элемента массива.

Например, для массива из пяти элементов: 6; 2; 7; -7 ; 14 – ответ: 2.

Исходные данные объявлены так, как показано ниже на примерах для некоторых языков программирования и естественного языка. Запрещается

использовать переменные, не описанные ниже, но разрешается не использовать некоторые из описанных переменных.

Бейсик	Python
<pre>CONST N AS INTEGER = 20 DIM A (1 TO N) AS INTEGER DIM I AS INTEGER, J AS INTEGER, K AS INTEGER FOR I = 1 TO N INPUT A(I) NEXT I ... END</pre>	<pre># допускается также # использовать две # целочисленные переменные j и k a = [] n = 20 for i in range(0, n): a.append(int(input())) ... </pre>
Алгоритмический язык	Паскаль
<pre><u>алг</u> <u>нач</u> цел N = 20 целтаб a[1:N] цел i, j, k нц для i от 1 до N ввод a[i] кц ... <u>кон</u></pre>	<pre>const N = 20; var a: array [1..N] of integer; i, j, k: integer; begin for i := 1 to N do readln(a[i]); ... end.</pre>
Си	Естественный язык
<pre>#include <stdio.h> #define N 20 int main() { int a[N]; int i, j, k; for (i = 0; i<N; i++) scanf("%d", &a[i]); ... return 0; }</pre>	<p>Объявляем массив <i>A</i> из 20 элементов. Объявляем целочисленные переменные <i>I, J, K</i>. В цикле от 1 до 20 вводим элементы массива <i>A</i> с 1-го по 20-й. ...</p>

В качестве ответа Вам необходимо привести фрагмент программы (или описание алгоритма на естественном языке), который должен находиться на месте многоточия. Вы можете записать решение также на другом языке программирования (укажите название и используемую версию языка программирования, например Free Pascal 2.6) или в виде блок-схемы. В этом случае Вы должны использовать те же самые исходные данные и переменные, какие были предложены в условии (например, в образце, записанном на естественном языке).

Содержание верного ответа и указания по оцениванию (допускаются иные формулировки решений, приводящие к правильному результату)
На языке Паскаль
<pre>k := 0; for i := 1 to N-1 do if (a[i] mod 7=0) and (a[i+1] mod 7=0) then inc(k); writeln(k);</pre>
На алгоритмическом языке
<pre>k := 0; нц для i от 1 до N-1 если mod(a[i], 7)=0 и mod(a[i+1], 7)=0 то k := k+1 все кц Вывод k</pre>
На языке Бейсик
<pre>K = 0 FOR I = 1 TO N-1 IF (A(I) MOD 7 = 0) AND (A(I + 1) MOD 7 = 0) THEN K = K+1 END IF NEXT I PRINT K</pre>
На языке Си
<pre>k = 0; for (i = 0; i<N-1; i++) if (a[i]%7 == 0 && a[i+1]%7 == 0) k++; printf("%d", k);</pre>
На языке Python
<pre>k = 0 for i in range(0, n - 1): if (a[i] % 7 == 0 and a[i + 1] % 7 == 0): k += 1 print(k)</pre>
На естественном языке
<p>Записываем в переменную <i>K</i> начальное значение, равное 0. В цикле от первого элемента до предпоследнего находим остаток от деления текущего и следующего элемента массива на 7. Если оба остатка равны 0, увеличиваем переменную <i>K</i> на единицу.</p> <p>После завершения цикла выводим значение переменной <i>K</i></p>

Указания по оцениванию	Баллы
<p><i>Общие указания.</i></p> <p>1. В алгоритме, записанном на языке программирования, допускается наличие отдельных синтаксических ошибок, не искажающих замысла автора программы.</p> <p>2. Эффективность алгоритма не имеет значения и не оценивается.</p> <p>3. Допускается запись алгоритма на языке программирования, отличном от языков, приведённых в условии. В этом случае должны использоваться переменные, аналогичные описанным в условии. Если язык программирования использует типизированные переменные, описания переменных должны быть аналогичны описаниям переменных на естественном языке. Использование нетипизированных или необъявленных переменных возможно только в случае, если это допускается языком программирования; при этом количество переменных и их идентификаторы должны соответствовать условию задачи</p>	
Предложен правильный алгоритм, выдающий в качестве результата верное значение	2
<p>Не выполнены условия, позволяющие поставить 2 балла. Предложено в целом верное решение, содержащее не более одной ошибки из числа следующих:</p> <ol style="list-style-type: none"> 1) в цикле происходит выход за границу массива (например, используется цикл от 1 до N); 2) не инициализируется или неверно инициализируется счётчик количества найденных пар; 3) счётчик количества пар в цикле не изменяется или изменяется неверно; 4) неверно проверяется делимость на 7; 5) на делимость проверяются не сами элементы, а их индексы; 6) при проверке выполнения условия для пары элементов используются неверные индексы; 7) в сложном логическом условии простые проверки верны, но условие в целом построено неверно (например, перепутаны операции «И» и «ИЛИ», неверно расставлены скобки в логическом выражении); 8) отсутствует вывод ответа; 9) используется переменная, не объявленная в разделе описания переменных; 10) не указано или неверно указано условие завершения цикла; 11) индексная переменная в цикле не меняется (например, в цикле while) или меняется неверно; 12) неверно расставлены операторные скобки 	1

Ошибок, перечисленных в п. 1–12, две или больше, или алгоритм сформулирован неверно (в том числе при отсутствии цикла в явном или неявном виде)	0
<i>Максимальный балл</i>	2

27

Дан целочисленный массив из 20 элементов. Элементы массива могут принимать целые значения от $-10\,000$ до $10\,000$ включительно. Опишите на естественном языке или на одном из языков программирования алгоритм, позволяющий найти и вывести количество пар элементов массива, произведение которых нечётно, а сумма отрицательна. Под парой подразумевается два подряд идущих элемента массива.

Исходные данные объявлены так, как показано ниже на примерах для некоторых языков программирования и естественного языка. Запрещается использовать переменные, не описанные ниже, но разрешается не использовать некоторые из описанных переменных.

Бейсик	Паскаль
<pre>N = 20 DIM A(N) AS LONG DIM I, J, K AS LONG FOR I = 1 TO N INPUT A(I) NEXT I ... END</pre>	<pre>const N = 20; var a: array [1..N] of longint; i, j, k: longint; begin for i := 1 to N do readln(a[i]); ... end.</pre>
Си	Алгоритмический язык
<pre>#include <stdio.h> #define N 20 void main() { long a[N]; long i, j, k; for (i = 0; i < N; i++) scanf("%ld", &a[i]); ... }</pre>	<pre><u>алг</u> <u>нач</u> <u>цел</u> N = 20 <u>цел таб</u> a[1:N] <u>цел</u> i, j, k <u>нц для</u> i <u>от</u> 1 <u>до</u> N <u>ввод</u> a[i] <u>кц</u> ... <u>кон</u></pre>
Естественный язык	
<p>Объявляем массив A из 20 элементов. Объявляем целочисленные переменные I, J, K. В цикле от 1 до 20 вводим элементы массива A с 1-го по 20-й. ...</p>	

В качестве ответа Вам необходимо привести фрагмент программы (или описание алгоритма на естественном языке), который должен находиться на месте многоточия. Вы можете записать решение также на другом языке программирования (укажите название и используемую версию языка программирования, например Free Pascal 2.6) или в виде блок-схемы. В этом случае Вы должны использовать те же самые исходные данные и переменные, какие были предложены в условии (например, в образце, записанном на естественном языке).

Содержание верного ответа и указания по оцениванию (допускаются иные формулировки ответа, не искажающие его смысла)
На языке Паскаль
<pre>k := 0; for i := 1 to N - 1 do if (a[i]*a[i + 1] mod 2 <> 0) and (a[i]+a[i + 1] < 0) then inc(k); writeln(k);</pre>
На алгоритмическом языке
<pre>k := 0 нц для i от 1 до N - 1 если mod(a[i] * a[i + 1], 2) <> 0 и a[i] + a[i + 1] < 0 то k := k + 1 все кц ВЫВОД k</pre>
На языке Бейсик
<pre>K = 0 FOR I = 1 TO N-1 IF A(I) * A(I + 1) MOD 2 <> 0 AND A(I) + A(I + 1) < 0 THEN K = K + 1 END IF NEXT I PRINT K</pre>
На языке Си
<pre>k = 0; for (i = 0; i < N - 1; i++) if (a[i] * a[i + 1] % 2 != 0 && a[i] + a[i + 1] < 0) k++; printf("%ld", k);</pre>
На естественном языке
<p>Записываем в переменную <i>K</i> начальное значение, равное 0. В цикле от первого элемента до предпоследнего находим остаток от деления произведения текущего и следующего элементов массива на 2. Если значение данного остатка не равно 0 и сумма текущего и следующего элементов массива меньше 0, увеличиваем переменную <i>K</i> на единицу. После завершения цикла выводим значение переменной <i>K</i></p>

Указания по оцениванию	Баллы
<p>Предложен правильный алгоритм, выдающий верное значение. Допускается запись алгоритма на другом языке, использующая аналогичные переменные. В случае, если язык программирования использует типизированные переменные, описания переменных должны быть аналогичны описаниям переменных на естественном языке. Использование нетипизированных или необъявленных переменных возможно только в случае, если это допускается языком программирования, при этом количество переменных и их идентификаторы должны соответствовать условию задачи. В алгоритме, записанном на языке программирования, допускается наличие отдельных синтаксических ошибок, не искажающих замысла автора программы</p>	2
<p>Не выполнены условия, позволяющие поставить 2 балла. При этом предложено в целом верное решение, содержащее не более одной ошибки из числа следующих:</p> <ol style="list-style-type: none"> 1) в цикле происходит выход за границу массива (например, используется цикл от 1 до N); 2) не инициализируется или неверно инициализируется счётчик количества найденных пар; 3) неверно осуществляется проверка произведения пары элементов на чётность; 4) на чётность проверяется не произведение значений элементов, а произведение их индексов; 5) неверно осуществляется проверка суммы пары элементов на отрицательность; 6) в сложном логическом условии простые проверки верны, но условие в целом построено неверно (например, перепутаны операции «И» и «ИЛИ», неверно расставлены скобки в логическом выражении); 7) отсутствует вывод ответа; 8) используется переменная, не объявленная в разделе описания переменных; 9) не указано или неверно указано условие завершения цикла; 10) индексная переменная в цикле не меняется (например, в цикле while) или меняется неверно; 11) неверно расставлены операторные скобки. <p>Допускается наличие отдельных синтаксических ошибок, не искажающих замысла автора программы</p>	1
<p>Не выполнены условия, позволяющие поставить 1 или 2 балла. Например, ошибок, перечисленных в п. 1–11, две или больше, или алгоритм сформулирован неверно</p>	0
<i>Максимальный балл</i>	2

28

Дан целочисленный массив из 50 элементов. Элементы массива могут принимать целые значения от 0 до 10 000 включительно. Опишите на естественном языке или на одном из языков программирования алгоритм, позволяющий найти и вывести количество пар элементов массива, в которых оба числа однозначные. В данной задаче под парой подразумевается два подряд идущих элемента массива.

Например, для массива из пяти элементов: 16; 2; 3; 91; 7 – ответ: 1.

Исходные данные объявлены так, как показано ниже на примерах для некоторых языков программирования и естественного языка. Запрещается использовать переменные, не описанные ниже, но разрешается не использовать некоторые из описанных переменных.

Бейсик	Паскаль
<pre>CONST N AS INTEGER = 50 DIM A (1 TO N) AS INTEGER DIM I AS INTEGER, J AS INTEGER, K AS INTEGER FOR I = 1 TO N INPUT A(I) NEXT I ... END</pre>	<pre>const N = 50; var a: array [1..N] of integer; i, j, k: integer; begin for i := 1 to N do readln(a[i]); ... end.</pre>
Си	Алгоритмический язык
<pre>#include <stdio.h> #define N 50 int main() { int a[N]; int i, j, k; for (i = 0; i < N; i++) scanf("%d", &a[i]); ... return 0; }</pre>	<pre><u>алг</u> <u>нач</u> <u>цел</u> N = 50 <u>целтаб</u> a[1:N] <u>цел</u> i, j, k <u>нц для i от 1 до N</u> <u>ввод</u> a[i] <u>кц</u> ... <u>кон</u></pre>
Python	Естественный язык
<pre>//допускается также использовать //две целочисленные переменные j и k a = [] n = 50 for i in range(0, n): a.append(int(input()))</pre>	<p>Объявляем массив A из 50 элементов. Объявляем целочисленные переменные I, J, K. В цикле от 1 до 50 вводим элементы массива A с 1-го по 50-й. ...</p>

В качестве ответа Вам необходимо привести фрагмент программы (или описание алгоритма на естественном языке), который должен находиться на месте многоточия. Вы можете записать решение также на другом языке программирования (укажите название и используемую версию языка программирования, например, Free Pascal 2.6) или в виде блок-схемы. В этом случае Вы должны использовать те же самые исходные данные и переменные, какие были предложены в условии (например, в образце, записанном на естественном языке).

Содержание верного ответа и указания по оцениванию (допускаются иные формулировки решений, приводящие к правильному результату)
На языке Паскаль
<pre>k := 0; for i := 1 to N - 1 do if (a[i]<=9) and (a[i+1]<=9) then inc(k); writeln(k);</pre>
На алгоритмическом языке
<pre>k := 0; нц для i от 1 до N-1 если a[i]<=9 и a[i+1]<=9 то k := k+1 все кц Вывод k</pre>
На языке Бейсик
<pre>K = 0 FOR I = 1 TO N - 1 IF A(I)<=9 AND A(I+1)<=9 THEN K = K+1 END IF NEXT I PRINT K</pre>
На языке Си
<pre>k = 0; for (i = 0; i < N - 1; i++) if (a[i]<10 && a[i+1]<10) k++; printf("%d", k);</pre>

На языке Python	
<pre>k = 0 for i in range(0, n - 1): if (a[i]<=9 and a[i+1]<=9): k += 1 print(k)</pre>	
На естественном языке	
<p>Записываем в переменную <i>K</i> начальное значение, равное 0. В цикле от первого элемента до предпоследнего сравниваем текущей и следующий элементы массива с числом 10. Если оба элемента меньше 10, то увеличиваем переменную <i>K</i> на единицу.</p> <p>После завершения цикла выводим значение переменной <i>K</i>.</p>	
Указания по оцениванию	Баллы
<p><i>Общие указания.</i></p> <ol style="list-style-type: none"> 1. В алгоритме, записанном на языке программирования, допускается наличие отдельных синтаксических ошибок, не искажающих замысла автора программы. 2. Эффективность алгоритма не имеет значения и не оценивается. 3. Допускается запись алгоритма на языке программирования, отличном от языков, приведённых в условии. В этом случае должны использоваться переменные, аналогичные описанным в условии. Если язык программирования использует типизированные переменные, описания переменных должны быть аналогичны описаниям переменных на естественном языке. Использование нетипизированных или необъявленных переменных возможно только в случае, если это допускается языком программирования; при этом количество переменных и их идентификаторы должны соответствовать условию задачи 	
Предложен правильный алгоритм, выдающий в качестве результата верное значение	2

<p>Не выполнены условия, позволяющие поставить 2 балла. Предложено в целом верное решение, содержащее не более одной ошибки из числа следующих:</p> <ol style="list-style-type: none"> 1) в цикле происходит выход за границу массива (например, при использовании цикла от 1 до N); 2) не инициализируется или неверно инициализируется счётчик количества найденных пар; 3) счётчик количества пар в цикле не изменяется или изменяется неверно; 4) неверно производится сравнение, например вместо знака «меньше или равно» используется знак «меньше» и т.п.; 5) при проверке выполнения условия для пары элементов используются неверные индексы; 6) сравнения производятся не для самих элементов массива, а для их индексов; 7) в сложном логическом условии простые проверки верны, но условие в целом построено неверно (например, перепутаны операции «И» и «ИЛИ», неверно расставлены скобки в логическом выражении); 8) отсутствует вывод ответа; 9) используется переменная, не объявленная в разделе описания переменных; 10) не указано или неверно указано условие завершения цикла; 11) индексная переменная в цикле не меняется (например, в цикле <code>while</code>) или меняется неверно; 12) неверно расставлены операторные скобки 	1
Не выполнены условия, позволяющие поставить 1 или 2 балла	0
<i>Максимальный балл</i>	<i>2</i>

29

Дан целочисленный массив из 20 элементов. Элементы массива могут принимать целые значения от $-10\,000$ до $10\,000$ включительно. Опишите на естественном языке или на одном из языков программирования алгоритм, позволяющий найти и вывести количество пар элементов массива, в которых оба числа делятся на 5. В данной задаче под парой подразумевается два идущих подряд элемента массива.

Например, для массива из пяти элементов: 6; 2; 5; -5; 10 – ответ: 2.

Исходные данные объявлены так, как показано ниже на примерах для пяти языков программирования и естественного языка. Запрещается использовать переменные, не описанные ниже, но разрешается не использовать некоторые из описанных переменных.

Бейсик	Python
<pre>CONST N AS INTEGER = 20 DIM A (1 TO N) AS INTEGER DIM I AS INTEGER, J AS INTEGER, K AS INTEGER FOR I = 1 TO N INPUT A(I) NEXT I ... END</pre>	<pre># допускается также # использовать две # целочисленные переменные j и k a = [] n = 20 for i in range(0, n): a.append(int(input())) ...</pre>
Алгоритмический язык	Паскаль
<pre><u>алг</u> <u>нач</u> <u>цел</u> N = 20 <u>целтаб</u> a[1:N] <u>цел</u> i, j, k <u>нц</u> <u>для</u> i <u>от</u> 1 <u>до</u> N <u>ввод</u> a[i] <u>кц</u> ... <u>кон</u></pre>	<pre>const N = 20; var a: array [1..N] of integer; i, j, k: integer; begin for i := 1 to N do readln(a[i]); ... end.</pre>

Си	Естественный язык
<pre>#include <stdio.h> #define N 20 int main() { int a[N]; int i, j, k; for (i = 0; i<N; i++) scanf("%d", &a[i]); ... return 0; }</pre>	<p>Объявляем массив A из 20 элементов. Объявляем целочисленные переменные I, J, K. В цикле от 1 до 20 вводим элементы массива A с 1-го по 20-й. ...</p>

В качестве ответа Вам необходимо привести фрагмент программы (или описание алгоритма на естественном языке), который должен находиться на месте многоточия. Вы можете записать решение также на другом языке программирования (укажите название и используемую версию языка программирования, например Free Pascal 2.6) или в виде блок-схемы. В этом случае Вы должны использовать те же самые исходные данные и переменные, какие были предложены в условии (например, в образце, записанном на естественном языке).

Содержание верного ответа и указания по оцениванию (допускаются иные формулировки решений, приводящие к правильному результату)
На языке Паскаль
<pre>k := 0; for i := 1 to N-1 do if (a[i] mod 5=0) and (a[i+1] mod 5=0) then inc(k); writeln(k);</pre>
На алгоритмическом языке
<pre>k := 0; нц для i от 1 до N-1 если mod(a[i], 5)=0 и mod(a[i+1], 5)=0 то k := k+1 все кц Вывод k</pre>
На языке Бейсик
<pre>K = 0 FOR I = 1 TO N-1 IF (A(I) MOD 5 = 0) AND (A(I + 1) MOD 5 = 0) THEN K = K+1 END IF NEXT I PRINT K</pre>

На языке Си	
<pre>k = 0; for (i = 0; i<N-1; i++) if (a[i]%5 == 0 && a[i+1]%5 == 0) k++; printf("%d", k);</pre>	
На языке Python	
<pre>k = 0 for i in range(0, n - 1): if (a[i] % 5 == 0 and a[i + 1] % 5 == 0): k += 1 print(k)</pre>	
На естественном языке	
<p>Записываем в переменную <i>K</i> начальное значение, равное 0. В цикле от первого элемента до предпоследнего находим остаток от деления текущего и следующего элементов массива на 5. Если оба остатка равны 0, увеличиваем переменную <i>K</i> на единицу.</p> <p>После завершения цикла выводим значение переменной <i>K</i></p>	
Указания по оцениванию	Баллы
<p><i>Общие указания.</i></p> <ol style="list-style-type: none"> 1. В алгоритме, записанном на языке программирования, допускается наличие отдельных синтаксических ошибок, не искажающих замысла автора программы. 2. Эффективность алгоритма не имеет значения и не оценивается. 3. Допускается запись алгоритма на языке программирования, отличном от языков, перечисленных в условии. В этом случае должны использоваться переменные, аналогичные описанным в условии. Если язык программирования использует типизированные переменные, описания переменных должны быть аналогичны описаниям переменных на естественном языке. Использование нетипизированных или необъявленных переменных возможно только в случае, если это допускается языком программирования; при этом количество переменных и их идентификаторы должны соответствовать условию задачи 	

Предложен правильный алгоритм, выдающий в качестве результата верное значение	2
<p>Не выполнены условия, позволяющие поставить 2 балла. Предложено в целом верное решение, содержащее не более одной ошибки из числа следующих:</p> <ol style="list-style-type: none"> 1) в цикле происходит выход за границу массива (например, используется цикл от 1 до N); 2) не инициализируется или неверно инициализируется счётчик количества найденных пар; 3) счётчик количества пар в цикле не изменяется или изменяется неверно; 4) неверно проверяется делимость на 5; 5) на делимость проверяются не сами элементы, а их индексы; 6) при проверке выполнения условия для пары элементов используются неверные индексы; 7) в сложном логическом условии простые проверки верны, но условие в целом построено неверно (например, перепутаны операции «И» и «ИЛИ», неверно расставлены скобки в логическом выражении); 8) отсутствует вывод ответа; 9) используется переменная, не объявленная в разделе описания переменных; 10) не указано или неверно указано условие завершения цикла; 11) индексная переменная в цикле не меняется (например, в цикле <code>while</code>) или меняется неверно; 12) неверно расставлены операторные скобки 	1
Ошибок, перечисленных в п. 1–12, две или больше, или алгоритм сформулирован неверно (в том числе при отсутствии цикла в явном или неявном виде)	0
<i>Максимальный балл</i>	2

30

Дан целочисленный массив из 20 элементов. Элементы массива могут принимать целые значения от $-10\,000$ до $10\,000$ включительно. Опишите на естественном языке или на одном из языков программирования алгоритм, позволяющий найти и вывести количество пар элементов массива, в которых оба числа делятся на 7. В данной задаче под парой подразумевается два идущих подряд элемента массива.

Например, для массива из пяти элементов: 6; 2; 7; -7; 14 – ответ: 2.

Исходные данные объявлены так, как показано ниже на примерах для пяти языков программирования и естественного языка. Запрещается использовать переменные, не описанные ниже, но разрешается не использовать некоторые из описанных переменных.

Бейсик	Python
<pre>CONST N AS INTEGER = 20 DIM A (1 TO N) AS INTEGER DIM I AS INTEGER, J AS INTEGER, K AS INTEGER FOR I = 1 TO N INPUT A(I) NEXT I ... END</pre>	<pre># допускается также # использовать две # целочисленные переменные j и k a = [] n = 20 for i in range(0, n): a.append(int(input())) ...</pre>
Алгоритмический язык	Паскаль
<pre><u>алг</u> <u>нач</u> <u>цел</u> N = 20 <u>целтаб</u> a[1:N] <u>цел</u> i, j, k <u>нц</u> <u>для</u> i <u>от</u> 1 <u>до</u> N <u>ввод</u> a[i] <u>кц</u> ... <u>кон</u></pre>	<pre>const N = 20; var a: array [1..N] of integer; i, j, k: integer; begin for i := 1 to N do readln(a[i]); ... end.</pre>

Си	Естественный язык
<pre>#include <stdio.h> #define N 20 int main() { int a[N]; int i, j, k; for (i = 0; i<N; i++) scanf("%d", &a[i]); ... return 0; }</pre>	<p>Объявляем массив A из 20 элементов. Объявляем целочисленные переменные I, J, K. В цикле от 1 до 20 вводим элементы массива A с 1-го по 20-й. ...</p>

В качестве ответа Вам необходимо привести фрагмент программы (или описание алгоритма на естественном языке), который должен находиться на месте многоточия. Вы можете записать решение также на другом языке программирования (укажите название и используемую версию языка программирования, например Free Pascal 2.6) или в виде блок-схемы. В этом случае Вы должны использовать те же самые исходные данные и переменные, какие были предложены в условии (например, в образце, записанном на естественном языке).

Содержание верного ответа и указания по оцениванию (допускаются иные формулировки решений, приводящие к правильному результату)
На языке Паскаль
<pre>k := 0; for i := 1 to N-1 do if (a[i] mod 7=0) and (a[i+1] mod 7=0) then inc(k); writeln(k);</pre>
На алгоритмическом языке
<pre>k := 0; нц для i от 1 до N-1 если mod(a[i], 7)=0 и mod(a[i+1], 7)=0 то k := k+1 все кц Вывод k</pre>
На языке Бейсик
<pre>K = 0 FOR I = 1 TO N-1 IF (A(I) MOD 7 = 0) AND (A(I + 1) MOD 7 = 0) THEN K = K+1 END IF NEXT I PRINT K</pre>

На языке Си	
<pre>k = 0; for (i = 0; i<N-1; i++) if (a[i]%7 == 0 && a[i+1]%7 == 0) k++; printf("%d", k);</pre>	
На языке Python	
<pre>k = 0 for i in range(0, n - 1): if (a[i] % 7 == 0 and a[i + 1] % 7 == 0): k += 1 print(k)</pre>	
На естественном языке	
<p>Записываем в переменную <i>K</i> начальное значение, равное 0. В цикле от первого элемента до предпоследнего находим остаток от деления текущего и следующего элементов массива на 7. Если оба остатка равны 0, увеличиваем переменную <i>K</i> на единицу.</p> <p>После завершения цикла выводим значение переменной <i>K</i></p>	
Указания по оцениванию	Баллы
<p><i>Общие указания.</i></p> <ol style="list-style-type: none"> 1. В алгоритме, записанном на языке программирования, допускается наличие отдельных синтаксических ошибок, не искажающих замысла автора программы. 2. Эффективность алгоритма не имеет значения и не оценивается. 3. Допускается запись алгоритма на языке программирования, отличном от языков, перечисленных в условии. В этом случае должны использоваться переменные, аналогичные описанным в условии. Если язык программирования использует типизированные переменные, описания переменных должны быть аналогичны описаниям переменных на естественном языке. Использование нетипизированных или необъявленных переменных возможно только в случае, если это допускается языком программирования; при этом количество переменных и их идентификаторы должны соответствовать условию задачи 	

Предложен правильный алгоритм, выдающий в качестве результата верное значение	2
<p>Не выполнены условия, позволяющие поставить 2 балла. Предложено в целом верное решение, содержащее не более одной ошибки из числа следующих:</p> <p>13) в цикле происходит выход за границу массива (например, используется цикл от 1 до N);</p> <p>14) не инициализируется или неверно инициализируется счётчик количества найденных пар;</p> <p>15) счётчик количества пар в цикле не изменяется или изменяется неверно;</p> <p>16) неверно проверяется делимость на 7;</p> <p>17) на делимость проверяются не сами элементы, а их индексы;</p> <p>18) при проверке выполнения условия для пары элементов используются неверные индексы;</p> <p>19) в сложном логическом условии простые проверки верны, но условие в целом построено неверно (например, перепутаны операции «И» и «ИЛИ», неверно расставлены скобки в логическом выражении);</p> <p>20) отсутствует вывод ответа;</p> <p>21) используется переменная, не объявленная в разделе описания переменных;</p> <p>22) не указано или неверно указано условие завершения цикла;</p> <p>23) индексная переменная в цикле не меняется (например, в цикле while) или меняется неверно;</p> <p>24) неверно расставлены операторные скобки</p>	1
Ошибок, перечисленных в п. 1–12, две или больше, или алгоритм сформулирован неверно (в том числе при отсутствии цикла в явном или неявном виде)	0
<i>Максимальный балл</i>	2